

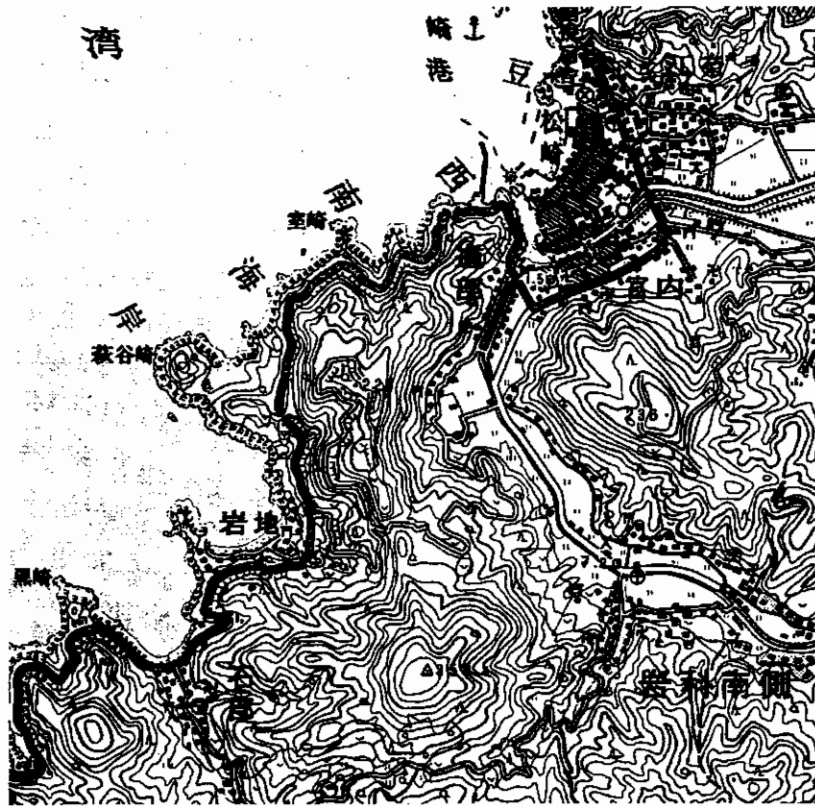
1 次の図1のZ県は日本のある県を示しています。また、図2は図1中の□で囲まれた範囲の地形図の一部です。これらを参考に問に答えなさい

図1

*図の方角は正確ではありません



図2



問1. 図1中のZ県の県名を答えなさい。

問2. 図2から読み取れることについて述べた次の文ア～エで、誤っているものを一つ選びなさい。

- ア. 海岸沿いはリアス式海岸で、海にそって集落が点在している。
- イ. 「岩地」から「萩谷崎」までは、防波堤が築かれている。
- ウ. 集落は海沿いに集中しているが、谷合にもいくつかの集落が点在している。
- エ. 山は比較的標高が低く、針葉樹・広葉樹林となっている。

問3. 図2のような地形において、自然災害を考えたときに誤っているのはどれになるか、もっとも適切なものを次の文ア～エから一つ選びなさい。

- ア. 海岸と集落との距離が近いために、津波などの被害を受ける可能性がある。
- イ. 埋立地の場合、液状化現象により建物の倒壊が考えられる。
- ウ. 集落の背後にある火山から火山灰が降ってくるのが考えられる。
- エ. 大雨が続いた場合、山地の斜面が崩れ落ちることが考えられる。

問4. 次の表1、2は、それぞれ果実の主産地を表し、図1、2中の(Z)県がこの中に含まれています。

表1、2の果実は何になりますか。もっともふさわしい組合せを下記のア～エから一つ選びなさい。

表1	%
愛媛	16.0
和歌山	15.5
(Z)	12.7
熊本	8.5
長崎	7.6

表2	%
栃木	13.8
福岡	10.7
熊本	7.2
(Z)	6.5
佐賀	6.2

(日本国勢図会 04・05)

	ア	イ	ウ	エ
表1	ぶどう	ぶどう	みかん	みかん
表2	いちご	もも	もも	いちご

問5. 図1のような沿岸地形が見られる地域を、次の図3中のア～オから二つ選びなさい。

図3



2 日本の産業とそれに関連した次の問に答えなさい。

問1. 好漁場が形成される条件として説明した次の文中の空欄に適語を入れなさい。

なお、解答はそれぞれ指示された漢字の文字数で記入するようにしなさい。

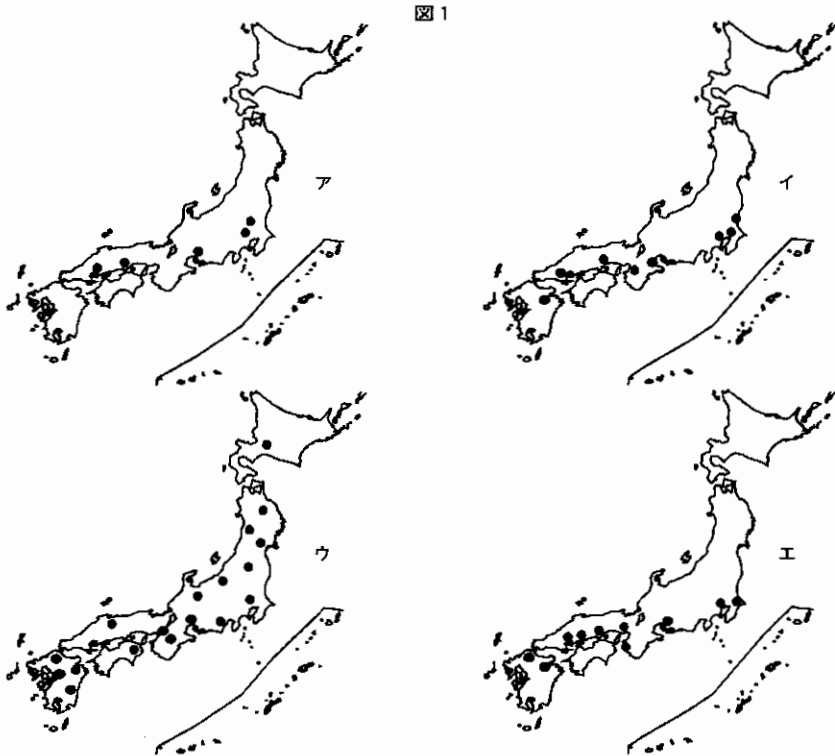
水産業が発達する自然条件としては、水深が200mまでの（あ・3字）と呼ばれる比較的浅い海底が続くこと。また、寒流と暖流がぶつかる（い・2文字）などが存在することがあげられる。一方、社会的な条件としては背後に大消費地をひかえ、さらに水あげした漁獲物を効率よく運搬する（う・4文字）や鉄道網などの交通機関の発達も欠かせない。

問2. 日本が主張する領海と、経済水域の範囲をそれぞれ算用数字で書きなさい。

問3. 日本をめぐる水産業について述べた次の文ア～エで、誤っているものを一つ選びなさい。

- ア. 日本の漁獲高は世界有数を誇っているが、同時に世界最大の魚介類の輸入国でもある。
- イ. 日本の海岸線は年々護岸化が進み、これが漁獲高の減少をまねく原因の一つでもある。
- ウ. 養殖漁業や栽培漁業は、海洋汚染の影響で漁獲高は減少傾向を示している。
- エ. 農業と同じく水産業も、年を追うごとに高齢化と漁業離れが進行している。

問4. 次の図1の（ア）～（エ）中の●は、鉄鋼、半導体、石油化学、自動車工業のおもな分布を示したものです。このうち、半導体にあてはまるものを図1中のア～エから一つ選びなさい。



3 次の各問に答えなさい。


問1. 右の図1は、環境問題への取り組みとして採用されているシンボルマークです。これについて述べた次の文ア～エで正しいものを一つ選びなさい。

- ア. これは1992年に開かれた地球サミットのシンボルマークで、持続可能な開発を意味する。
- イ. 1972年に開かれた国連人間環境会議のシンボルマークで、かけがえない地球をテーマにしている。
- ウ. これは、資源の再利用や環境への負担を軽減した商品につけられるシンボルマークである。
- エ. これは1996年に京都で開かれた環境会議のシンボルマークで、地球は一つという意味である。



図1

問2. 次の写真は都内のある風景を写したものです。これについて説明した次の文ア～エで、誤っているものを一つ選びなさい。



- ア. ビルの壁を利用して植物を育てることで、ビル内の温度を下げる効果がある。
- イ. ビルの壁に植物を植えることで、少しでも周囲の気温を下げようとしている。
- ウ. ビルの壁に植物を植えることで、ビルの耐久性を大きく向上させる効果がある。
- エ. ビル内の気温を下げると同時に、通行する人にも景観を楽しんでもらおうとしている。

4 次の年表を見ながら設問に答えなさい。

年代	出来事
(①) 頃	稲作が伝わる 〈ア〉
645	②大化の改新がおきる 〈イ〉
794	③都を平安京に移す 〈ウ〉
1167	(④) が太政大臣となる
1192	源頼朝が鎌倉に幕府を開く 〈エ〉
1392	⑤南北朝が一つになる 〈オ〉
1603	⑥徳川家康が江戸に幕府を開く 〈カ〉
1680	⑦徳川綱吉が5代将軍となる 〈キ〉
1716	⑧徳川吉宗が8代将軍となる 〈ク〉

問1. 空欄(①)に入れるのにもっとも適した数字を選んで記号で答えなさい。

- ア. 4500年前 イ. 3500年前
ウ. 2500年前 エ. 1500年前

問2. 下線②の大化の改新では、のちに大きな勢力を持つ藤原氏の基礎を作った人物が活躍しました。この人物はだれですか。

問3. 下線③が行われたときの天皇はだれですか。

問4. 空欄(④)には、武士で初めて太政大臣となった人物の名前が入ります。それは、だれですか。

問5. 下線⑤の時の将軍はだれですか。下から選んで記号で答えなさい。

- ア. 足利義昭 イ. 足利義満
ウ. 足利義政 エ. 足利尊氏

問6. 下線⑥の徳川家康は、豊臣氏を滅ぼすと大名が守らなければいけない決まりを定め、2代将軍徳川秀忠の名前でだしました。この決まりを何と呼びますか。

問8. 下線⑧の徳川吉宗は、享保の改革と呼ばれる幕府政治の改革を行った将軍として有名ですが、吉宗が行ったことにあてはまらないものを選んで記号で答えなさい。

- ア. 上米の制を行った イ. 目安箱において庶民の意見を聞いた
ウ. 公事方御定書を作って裁判の基準を定めた エ. 生類あわれみの令を出した

問9. 次の史料1、2は、年表中のどの時期のものでしょうか。年表中の〈ア〉～〈ク〉の記号で答えなさい。

史料1 諸国の百姓が刀やわきざし、弓、やり、鉄砲、そのほかの武具をもつことをかたく禁止する。不必要な武器をたくわえ、年貢その他の税をなかなか納入せず一揆をくわだてたりするものはきびしく処罰する。

史料2 この世をば わが世とぞ思ふ(う) もち月の かけたることも なしと思へ(え)ば

問7. 下線⑦の徳川綱吉がおさめていた時代は、文化が発展した時代でした。下の写真の中からこの時代の文化ともっとも関係の深いものを選んで記号で答えなさい。



ア



イ



ウ

5 以下の短文を読んで問いに答えなさい。

- ① 新しい政治の仕組みとして内閣制度が設けられた。
- ② 朝鮮半島をめぐって清国と日本は戦争をはじめた。この戦争は、日本側の勝利に終わり、日本の()で講和条約が結ばれた。この戦争ののち、政府は重工業の育成に力をいれ、清国から得た賠償金の一部を使って、官営の製鉄所を作った。
- ③ 第二次世界大戦後、国交がとだえていた日本と中国は、1972年の日中共同宣言で国交が回復した。
- ④ 大日本帝国憲法では、万世一系の天皇が日本を統治すると定められた。
- ⑤ 自由民権運動の中心人物であった板垣退助は、国会の開設が決まると、自ら()という政党を組織した
- ⑥ 第二次世界大戦が終わると、日本を民主的な国家にするため、地主から土地を取り上げ小作人に売り渡す農地改革が行われた。
- ⑦ 日米和親条約で日本を開国させたアメリカは、通商条約を結ぶことを幕府に求めた。幕府の中心人物であった大老()は、周囲の反対をおさえてアメリカとの間に日米修好通商条約を結んだ
- ⑧ 不平等な条約を改正することは、明治政府にとって大きな課題であった。そのため、歴代の外交の責任者が、改正の交渉を行い、ついに外務大臣()がイギリスとの間に治外法権を取りやめる条約を結ぶことに成功した

問1. 短文①に内閣とありますが、日本で最初の総理大臣となった人はだれですか。

問2. ア) 短文②の空欄には日本の地名が入ります。その地名を漢字2字で答えなさい。

イ) 短文②の製鉄所の名前を答えなさい。

問3. 短文③の日中共同宣言が出されたときの総理大臣はだれですか。記号で答えなさい。

ア. 田中角栄 イ. 吉田茂 ウ. 中曾根康弘 エ. 佐藤栄作

問4. 短文④の憲法が出されたときに衆議院議員選挙法も制定されました。この時にはどのような人々に選挙の資格があたえられましたか。正しいと思うものを選んで記号で答えなさい。

- ア. 直接国税を15円以上納入している30歳以上の男子
イ. 直接国税を10円以上納入している25歳以上の男女
ウ. 直接国税を15円以上納入している25歳以上の男子
エ. 納税による区別はなく25歳以上の男子ならば全員

問5. 短文⑤の空欄にはいる政党の名前を答えなさい。

問6. 農地改革は、日本を占領した連合軍の指示によるものでした。この連合軍の最高司令官として日本の占領の中心となっていた人はだれですか。

問7. 短文⑦の空欄にあてはまる人の名前を答えなさい。

問8. 短文⑧の空欄にあてはまる人を記号で答えなさい。

ア. 小村寿太郎 イ. 井上馨 ウ. 山県有朋 エ. 陸奥宗光

6 次の文章(A)、(B)を読んで問いに答えなさい。

(A) ①日本国憲法は、1946年11月に公布され、翌1947年5月に施行された。この憲法では、②基本的人権を侵すことのできない永久の権利としている。また、三権分立の考え方に基づいて、国会・内閣・③裁判所がそれぞれ独立し、立法・行政・司法をつかさどると決められている。

(B) 1960年代の日本は、④内閣のとった高度経済成長政策により、重化学工業を中心に急速な発展をとげた。その結果、1968年には、国民総生産が資本主義国で米について世界第2位になるまでになった。しかし、企業が生産を第一としたために、生活環境や自然環境に対する対策がおくれ、各地で⑤公害問題が発生した。

問1. 下線①の日本国憲法では天皇は国民統合の象徴とされていますが、天皇の仕事に属さないものの一つを選び記号で答えなさい。

- ア. 内閣の指名に従って最高裁判所長官を任命する
イ. 内閣の作成した予算案を公示する
ウ. 国会の指名に従って、内閣総理大臣を任命する
エ. 内閣の決定にもとづいて国会を召集したり、衆議院を解散したりする

問2. 下線②基本的人権には色々な種類がありますが、労働三権と呼ばれているものの組み合わせとして正しいものを下から選んで記号で答えなさい。

- ア. 自由権・団体行動権・争議権 イ. 生存権・平等権・団体交渉権
ウ. 生存権・団結権・争議権 エ. 団体交渉権・団結権・団体行動権

問3. 下線③の裁判所では、裁判官によって裁判が行われます。この裁判官について、下の説明文の空欄にあてはまる語句を選んで記号で答えなさい。

裁判官は、自己の良心に従って判決をくだすものとされ、()や弾劾裁判、定年といったこと以外でやめさせられることはない。
ア. 不信任 イ. 国民審査 ウ. 住民投票 エ. リコール

問4. 下線④の政策を推進した内閣総理大臣はだれですか。下から選んで記号で答えなさい。

ア. 福田赳夫 イ. 橋本竜太郎 ウ. 東条英機 エ. 池田勇人

問5. 下線⑤について

- ア) 公害問題は、明治時代にすでにおきていました。明治時代に足尾銅山の鉍毒の被害を天皇に訴えようとしたのはだれですか。
イ) 公害問題や環境問題に対応するために政府が1993年に出した法令の名前を答えなさい。

(以上で問題は終わりです。)