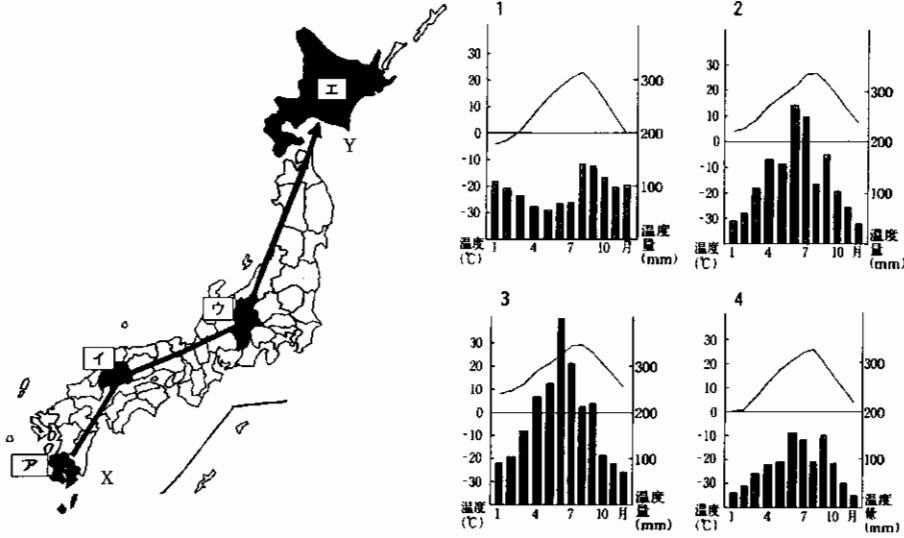


1 次の各問に答えなさい。

問1. 図1でXからYへ移動したとすると、図1中に [] で塗られた地域の道県庁所在地の気候グラフはどのように変化しますか。図2中の1～4を正しく並び替えなさい。

図1

図2



問2. 次の文章は図1中に [] で塗られたア～エのいずれかについて説明したものです。文章にあてはまる場所を図1中のア～エから一つ選び、さらに文章中の空らん(1)に当てはまる語句を記入しなさい。

畜産がさかんで、にわとり(ブロイラー)やぶたの飼育数は、いずれも日本一となっている。また、火山灰が深くつもった(1)と呼ばれる台地が南部に分布し、畑作中心の農業が行われている。

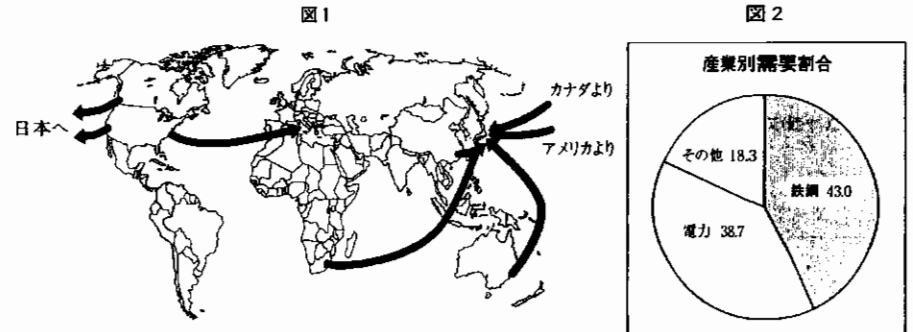
問3. 次の表は、キャベツ、はくさい、レタスの主な生産地の割合を示しています。表中の(P)にはすべて同じ生産地名が入ります。Pに当てはまるものを図1中のア～エから一つ選びなさい。

キャベツ		はくさい		レタス	
生産地	%	生産地	%	生産地	%
愛知	15.3	茨城	22.6	(P)	33.1
群馬	14.4	(P)	21.8	茨城	15.1
千葉	8.7	愛知	5.0	(Q)	6.5
茨城	6.4	(Q)	4.6	愛知	5.7
神奈川	6.2	群馬	3.3	山形	5.1
(Q)	5.6	福島	2.6	静岡	4.0
(P)	4.7	栃木	2.3	青森	3.6

(日本国勢図会 04 05)

2 日本の貿易の特徴について次の問に答えなさい。

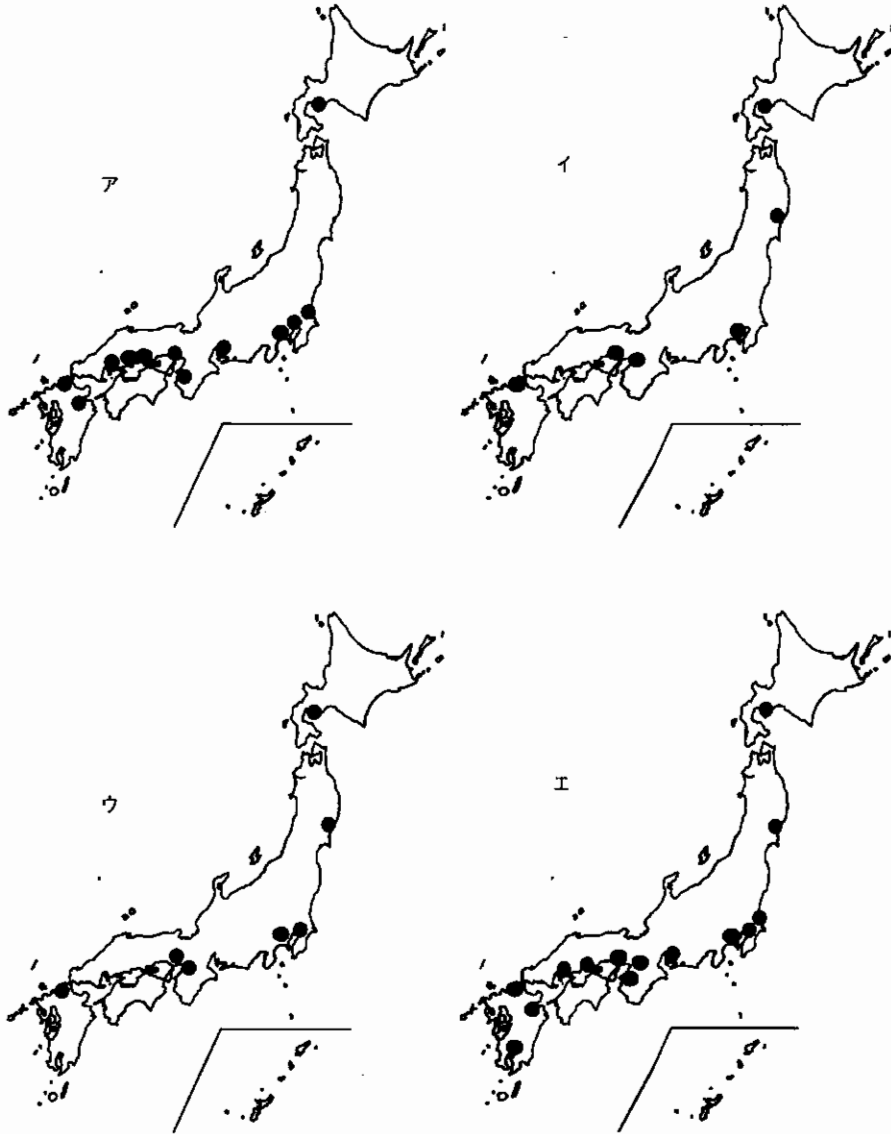
問1. 下記の図1中はある資源の生産と移動先を示したもので、図2は日本でのこの資源の産業別需要を表しています。この資源名は何ですか。



(日本国勢図会 04 05)

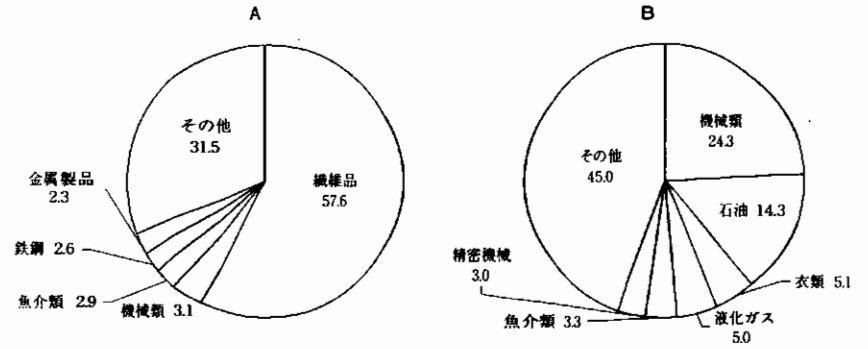
問2. 下記の図3は、日本の1940年代、1960年代、1970年代、2000年代の鉄鋼一貫工場の分布を示しています。このうち、2000年代に当てはまるものをア～エから一つ選びなさい。

図3



問3. 次のグラフA、Bは日本の1936年と2003年の輸出入品目のいずれかを表したものです。それぞれのグラフの項目に当てはまる組合せを、下記のア～エから一つ選びなさい。

単位：%

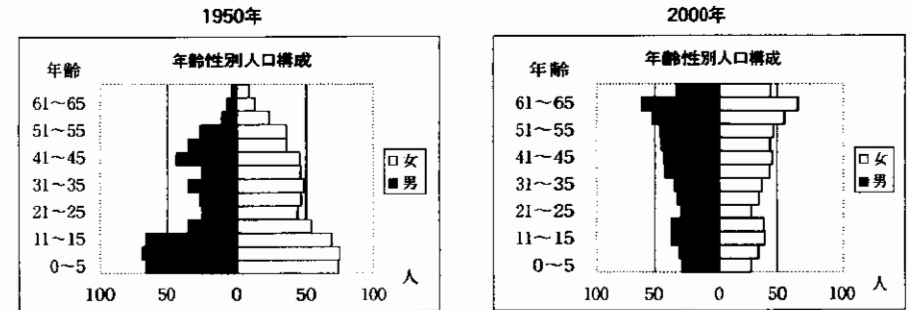


- ア. A - 2003年の輸出品目、 B - 1936年の輸入品目
 イ. A - 2003年の輸入品目、 B - 1936年の輸出品目
 ウ. A - 1936年の輸出品目、 B - 2003年の輸入品目
 エ. A - 1936年の輸入品目、 B - 2003年の輸出品目

3 人口と人口問題について問に答えなさい。

問1. 次の図1は、ある町の1950年と2000年の人口ピラミッドです。この図1について述べた次の文ア～エで、誤っているものを一つ選びなさい。

図1



- ア. 1950年の30代男性の数が少ないのは第二次世界大戦の影響である。
 イ. 2000年の幼年期が男女とも少なく、将来人口の減少が考えられる。
 ウ. 1950年の0～5歳代の数が多いのは「ひのえうま」の影響である。
 エ. 2000年の30歳代と60歳代以上の数から地方の町と推定される。

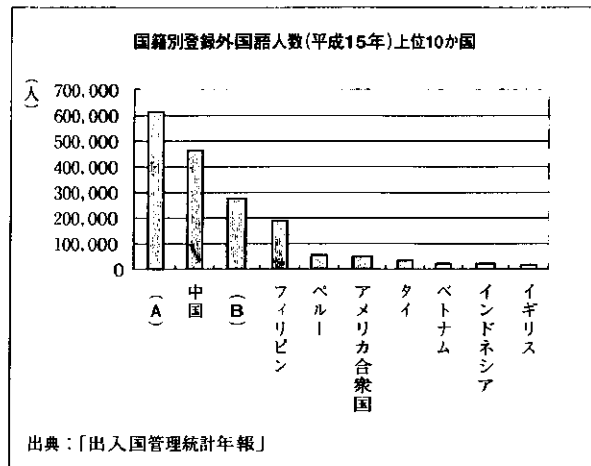
問2. 県庁所在地が、いずれも県内人口第1位の都市でない2つの市の組合せを、次のア～エから一つ選びなさい。

- ア. 前橋市と千葉市 イ. いわき市と浜松市 ウ. 大津市と長野市
エ. 甲府市と大分市

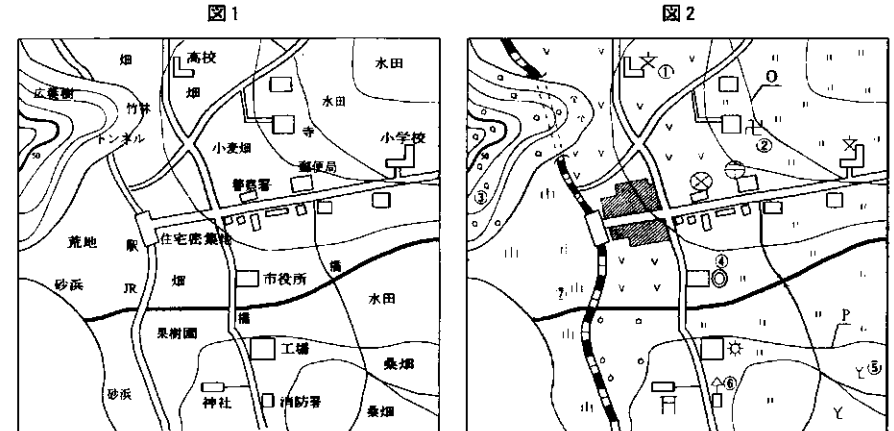
問3. 次の図2は、平成15年の日本の国籍別外国人人数です。グラフ中の(A)、(B)に入る国の組合せとしてもっとも適切なものを、次のア～エから一つ選びなさい。

- ア. A-ブラジル B-オーストラリア
イ. A-韓国・朝鮮 B-ブラジル
ウ. A-オーストラリア B-ブラジル
エ. A-ブラジル B-韓国・朝鮮

図2



4 次の図1は地形図を学習するために描かれたもので、図2は図1に地図記号を入れ完成させたものです。この図1、2を参考に間に答えなさい。



問1. 図2で記入されている地図記号①～⑦には図1に記入されている地図用語と異なるものが2つ含まれています。その番号をぬき出し、正しい地図記号に直しなさい。

問2. 地図中にある駅と小学校は、地図上で4cmあります。実際の距離をメートルで表しなさい。

問3. 図2について説明した次の文ア～エで誤っている文の一つを選びなさい。

- ア. OとPの線は、両方とも等高線を表している。
イ. 鉄道は、白い部分の間に線が入っているので複線を表している。
ウ. 図中で特に指示がないので、図2は上が北を向いていると判断してよい。
エ. 図2の範囲の中では高速道路は見られない。

5 次の文章(A)～(D)は中国・朝鮮と日本との交渉の歴史に関するものです。よく読んで、設問に答えなさい。


- (A) 朝鮮半島の高麗を支配した①中国の皇帝は、大軍を2度にわたって日本におくり攻撃をしかけてきた。しかし、執権の(②)を中心に日本の武士たちはよく戦い、たまたま来た暴風雨の被害を受けて中国の大軍は敗退した。
- (B) 唐の進んだ文化や制度を学ぶため、遣唐使が派遣された。この遣唐使は以後260年ぐらいの間に十数回も派遣され、(③)など多くに人々が唐へわたって学問を学んだり、文物を持ち帰ったりした。
- (C) 3代将軍の頃までに鎖国の体制が整えられたが、朝鮮との国交は保たれ、将軍のかわるごとに(④)と呼ばれる使節が江戸にやってきた。
- (D) 中国から倭寇の禁止を求められた⑤将軍は、それにこたえて倭寇をおさえると同時に中国との貿易を開始した。

問1. 文中の空欄や下線に関する以下の設問に答えなさい。

- ① 下線①の皇帝はだれですか。その名前をカタカナで答えなさい。
- ② 空欄②にあてはまる人物の名を下から選んで記号で答えなさい。
ア. 北条時宗 イ. 北条義時 ウ. 北条泰時 エ. 北条時政
- ③ 空欄③には遣唐使として中国にわたった人物の名前がはいりますが、以下の人物の中であてはまらない人物の名前を選んで記号で答えなさい。
ア. 藤原道長 イ. 空海 ウ. 阿倍仲麻呂 エ. 吉備真備
- ④ 空欄④にあてはまる語句を答えなさい。
- ⑤ 下線⑤の将軍の名前を答えなさい。

問2. 短文(A)～(D)を古いもから順番にならべなさい。


問3. 短文(A)の事件がおきた時代の文化の動きと関係のないものは次の中のどれですか。記号で答えなさい。



ア



イ



ウ



エ

6 次の文章A～Cを読んで、下線についての問1～10に答えなさい。

A. 江戸幕府をたおした明治新政府は、天皇を中心とした中央集権国家を作ろうとして①様々な政策を行った。また、日本を欧米諸国におとらない強い国にするためには、②国を豊かにして、強い軍隊を持つことが必要であると考え、欧米の技術を入れて新しい工場を作ったり、③徴兵令を出して近代的な軍隊の建設をめざしたりした。

B. 明治維新以来の政治は、政党の存在を無視し、一部の藩閥出身の政治家によって行われてきた。こうした中で、④大正時代に入り山口県(長州)出身の桂太郎が内閣を組織すると、⑤憲法の本質にもとづいて政党による政治を行い民衆の声を政治にかしこめようという運動がもたらされ、この運動のために桂内閣はわずか2月で退陣した。こののち、第一次世界大戦の終わりごろに起こった⑥米騒動のため、時の総理大臣は責任をとって辞任し⑦立憲政友会総裁が始めての本格的な政党内閣を組織した。それからしばらくして、ふたたび政党の存在を無視した内閣が登場すると、以前と同じような運動が起こり、加藤高明を総理大臣とする新しい内閣が生まれた。この内閣は、新しい選挙法の制定を求める声にこたえて、⑧1925年に普通選挙法を制定した。

C. 第二次世界大戦で打撃を受けた日本経済は、戦後10年ほどで戦前の水準に回復した。さらに⑨1960年代に入ると、日本経済は急成長をし、1968年には国民総生産が資本主義国で第2位となるまでになった。しかし、1973年におきた第四次(⑩)をきっかけにおこした石油危機によって世界的な不況がおとされると、日本もその影響を受け成長のペースははぶっていった。

問1. 下線①について、明治政府が明治の初めころに行ったことの説明として正しいものを次のなかから一つ選びなさい。もし、正しいものがなければ、カと答えなさい。

- ア. 教育制度を整備するために、義務教育はすべて無料とした学制をさだめた
イ. 中央集権国家を作り上げるため、全国の藩を廃止し代わりに県を置く版籍奉還を実施した。
ウ. 新政府に反対する一揆をおさえるために、五箇条の誓文を定めた
エ. 安定した財政収入を得るため、土地を調査して地価を定め、地価の3%を地租とする地租改正を行った

問2. 下線②の考えを何と呼びますか。漢字四字で答えなさい。

問3. 下線③の徴兵令についての説明として正しくないものを選んで記号で答えなさい。もし、正しくないものがなければ、カと答えなさい。

- ア. 徴兵令は、新政府の重要人物の一人である山縣有朋らを中心に定められた
イ. この徴兵令によって満20歳以上の男子が兵役の義務を負うことになった
ウ. 徴兵は、すべて国民が対象であったが、いろいろな免除の決まりがあったので、実際に兵役の義務を負ったのは、農家の次男以下の人々であった
エ. 農民たちは、重要な働き手がいなくなるとして徴兵反対の一揆をおこした



問4. 左の写真は、下線④の時代に活躍した小説家です。名前を答えなさい。

また、この小説家の作品を下から選んで記号で答えなさい。

- ア. 暗夜行路 イ. 羅生門
ウ. 路傍の石 エ. 或る女

問5. 下線⑤の運動を何と呼びますか。

問6. 下線⑥の米騒動がおきたおもな理由を次の中から一つ選んで記号で答えなさい。

- ア. 第一次世界大戦に多くの農民が兵士として送られたために、農民の不満が高まったから
- イ. 第一次世界大戦での出費をおぎなうため、政府が税金を重くしたから
- ウ. シベリア出兵でもうけようと考えた商人が米を買占めたため米の値段がはねあがったから
- エ. 多くの特権を失ったもと武士だった人々が、政府に強い不満を持ったから

問7. 下線⑦のときに総理大臣となったのはだれですか。氏名を漢字で答えなさい。

問8. 下線⑧の年に政府は、社会主義運動などをとりしめるきびしい法律を制定しました。この法律は何と呼ばれていますか。法律の名を答えなさい。

問9. 下線⑨の年代におきたできごとにあてはまらないものを次から選んで、記号で答えなさい。

- ア. 東海道新幹線が開通した
- イ. 東京オリンピックが開かれた
- ウ. 日韓基本条約が結ばれた
- エ. 日本の国際連合加盟が認められた

問10. 空欄⑩に適する語句を答えなさい。

7 次の文章(A)、(B)を読んで設問に答えなさい

(A) ①国会で定められた法律に基づいて実際に政治を行う機関が②内閣で、③総理大臣と国務大臣で構成されている。内閣の仕事は、④予算案や法律案を作ることや、条約の調印など多方面にわたっている。

(B) 20世紀の前半、世界規模の戦争を経験した人類は、二度とこのような戦争を起こさないために、1946年に51ヶ国が集まって⑤国際連合という組織を作りあげた。国際連合の最高機関は、全加盟国の代表からなる(⑥)で、毎年9月に開催されている。そのほか、国際連合には、経済や社会などの分野で国際協力を進めるための専門機関がある。

問1. 下線①について。日本の国会は衆議院と参議院の二つの議院から構成されていますが、衆議院のほうが強い力を持つとされています。それはどうしてですか。理由を説明しなさい。

問2. 下線②の内閣は、国会に対して責任を負うこととなっていますが、こうした制度を何と呼びますか。

問3. 下線③の総理大臣や国務大臣が全員出席し、総理大臣が議長となって、政策などを話し合う会議を何と呼びますか。下から選んで記号で答えなさい。

- ア. 委員会
- イ. 公聴会
- ウ. 審議会
- エ. 閣議

問4. 下線④の予算案は、財政収入(歳入)の見つもりをもとに作成されます。しかし、現在の歳入は税金だけでまかなうことができないため、国の借り入れ金にたよっている部分が少なくありません。この、国の借り入れ金のことを何と呼びますか。漢字2字で答えなさい。

問5. 下線⑤の国際連合の本部はどこにありますか。下から選んで記号で答えなさい。

- ア. ジュネーブ
- イ. ロンドン
- ウ. ベルリン
- エ. ニューヨーク

問6. 空欄⑥に適する語句を答えなさい。

(以上で問題は終わりです。)