

社 会

I 次の文を読み、問いに答えなさい。

日本の衣服の歴史について考えてみましょう。

①縄文時代のひとびとは、②動物の毛皮や魚の皮、さらに③木の皮を編んでつくられたものを身につけていたようです。弥生時代の遺跡からは、機織りの技術が大陸から伝わったことがわかる出土品が見つかっています。このころは、数枚の布をぬい合わせたものに、頭を通す穴をあけてかぶる形の衣服が多かったことが、④中国の歴史書にも紹介されています。

その後、唐王朝の律令制度をうけいれた朝廷は、衣服についても、身分や地位ごとにこまかい決まりをさだめました。⑤894年に遣唐使が廃止され、中国文化の影響力が低下すると、⑥平安時代の貴族たちは、文様や配色など日本の風土に合うように工夫をこらしました。

⑦鎌倉時代の武士階級は、平安時代の貴族の服装を取り入れ、それらを簡素化して武家風に変化させた服を着ていました。また、衣服の生地としては、⑧室町時代に⑨朝鮮からもたらされた木綿が、15世紀後半に⑩三河地方などで栽培されるようになり、しだいにひとびとの間に広まりました。⑪安土桃山時代になると、⑫大名たちは⑬南蛮貿易を通じて海外の文化の影響を受けました。そして、金や銀の糸をたくさん使った豪華な着物がつくられるようになりました。江戸時代には、着物の形は変化し、つぎつぎと新しい色や柄も生まれました。そのような流行は大坂（大阪）や⑭京都、⑮江戸などの都市からはじまりました。

⑯ペリーの来航により開国を決めた幕府は、⑰フランス式の軍服を採用しましたが、このことをきっかけとして、⑱ズボンに上着という衣服の洋装がはじまったと考えられています。明治時代になって、男性の服装はしだいに⑲洋装化されていきました。一方、女性の多くが⑳洋服を着るようになったのは、男性よりも遅れて、大正12年（1923年）に㉑関東大震災がおき、着物より洋服の方が、いざというときに動きやすいことを実感してからでした。

問1 下線部①について。縄文時代に日本で使われていたものの「写真」と「説明文」の組合せとして正しいものを、<組合せ>の(ア)～(エ)から一つ選び、記号で答えなさい。

写真

(a)



(b)



(c)



(d)



説明文

(e) 古墳こふんのまわりにならべられた。

(f) 魚をとらえるために使われた。

(g) 豊作をいのるために使われた。

(h) 動物の皮をはがすために使われた。

<組合せ>

(ア) (a) — (e)

(イ) (b) — (f)

(ウ) (c) — (g)

(エ) (d) — (h)

問2 下線部②について。クマやシカといった動物の毛皮やサケ・マスなどの魚の皮をつぎ合わせてつくった衣服を伝統的に着ていたアイヌのひとびとについて述べた説明文として正しいものを、次の(ア)～(エ)から一つ選び、記号で答えなさい。

(ア) アイヌのひとびとは、ロシアの文字をもとにアイヌ文字をつくった。

(イ) シャクシャインにひきいられて、アイヌの人たちは松前藩と戦った。

(ウ) アイヌのひとびとは、徳川家の将軍が代わるごとに、使節を江戸に送った。

(エ) アイヌの人たちは、自分たちの都に首里城しゅりをつくった。

問3 下線部③について。木は古くから、私たちの生活のさまざまな場面で使われています。現在の日本の林業について述べた説明文として誤っているものを、次の(ア)～(エ)から一つ選び、記号で答えなさい。

(ア) 日本の国有林は、森林面積全体の約3割を占める。

(イ) 林業をふくむ第1次産業についている人は、第3次産業についている人と比べて少ない。

(ウ) 木材生産量は十分にあり、日本は輸入にたよらず木材を自給している。

(エ) 木材は、パルプの原料としても利用されている。

問4 下線部④について。次にあげた中国の歴史書A～Cの内容が古い順に正しく配列されているものを、次の(ア)～(エ)から一つ選び、記号で答えなさい。

A 漢書地理志

B 隋書倭国伝

C 魏志倭人伝

(ア) A → B → C

(イ) B → C → A

(ウ) C → B → A

(エ) A → C → B

問5 下線部⑤について。遣唐使が廃止された年にもっとも近い世界のできごとを、次の(ア)～(エ)から一つ選び、記号で答えなさい。

(ア) マルコ=ポーロが中国を訪れた。

(イ) コロンブスがアメリカ大陸を発見した。

(ウ) 聖徳太子が小野妹子を隋に送った。

(エ) 高麗こうらいが建国された。

問6 下線部⑥について。この時代の貴族の女性の服装として正しいものを、次の(ア)～(エ)から一つ選び、記号で答えなさい。

(ア)



(イ)



(ウ)



(エ)



(『日本歴史図録』 柏書房より作成)

問7 下線部⑦について。鎌倉時代につくられた作品として正しいものを、次の(ア)～(エ)から一つ選び、記号で答えなさい。


(ア) 唐獅子図屏風

(イ) 東大寺南大門金剛力士像

(ウ) 富嶽三十六景

(エ) 法隆寺金堂釈迦三尊像

問8 下線部⑧について。次の絵は、『真如堂縁起絵巻』の一部分です。この絵には、応仁の乱ころに身軽な姿で略奪などをおこなっている兵士がえがかれています。この兵士を何といますか。漢字2字で答えなさい。



問9 下線部⑨について。次の図は朝鮮半島の伝統的な民族衣装です。これを何といますか。正しいものを、次の(ア)～(エ)から一つ選び、記号で答えなさい。



(ア) アオザイ

(イ) サリー

(ウ) チマ・チョゴリ

(エ) チャドル

(『ポプラディア』より作成)

問10 下線部⑩について。

(1) 歴史上よく知られた戦いのうち、三河地方でおきたものを、次の(ア)～(エ)から一つ選び、記号で答えなさい。

- (ア) ^{かわなかじま}川中島の戦い (イ) ^{だんのうら}壇ノ浦の戦い (ウ) ^{ながしの}長篠の戦い (エ) ^{やまざき}山崎の戦い

(2) かつての三河地方の西部には、岡崎平野がひろがっています。この平野について述べた説明文として正しいものを、次の(ア)～(エ)から一つ選び、記号で答えなさい。

- (ア) 米の単作のほかに、りんごの栽培がさかんで、その生産量は日本一を誇っている。
(イ) 明治時代に用水が完成し、稲作のほかに野菜栽培や酪農などの農業がおこなわれてきた。
(ウ) 輪中と呼ばれる堤防で囲まれ、河川の氾濫による水害を防ぐ工夫がされてきた。
(エ) ^{でいたん}泥炭地を改良した耕地では、小麦・とうもろこし・てんさいなどの栽培がさかんである。

問11 下線部⑪について。安土には城が築かれ、それは琵琶湖の近くにありました。現在の琵琶湖について述べた説明文として正しいものを、次の(ア)～(エ)から一つ選び、記号で答えなさい。

- (ア) 琵琶湖の水質を守るため、滋賀県はリンがふくまれる合成洗剤の使用を禁止した。
(イ) 琵琶湖の水は、京阪神地方の工業用水のみに使われている。
(ウ) 琵琶湖の湿地は、水鳥の保護を目的としてワシントン条約に登録された。
(エ) 滋賀県の県庁所在地である彦根市は、琵琶湖に面している。

問12 下線部⑫について。戦国大名とその支配地域の組合せとして正しいものを、次の(ア)～(エ)から一つ選び、記号で答えなさい。

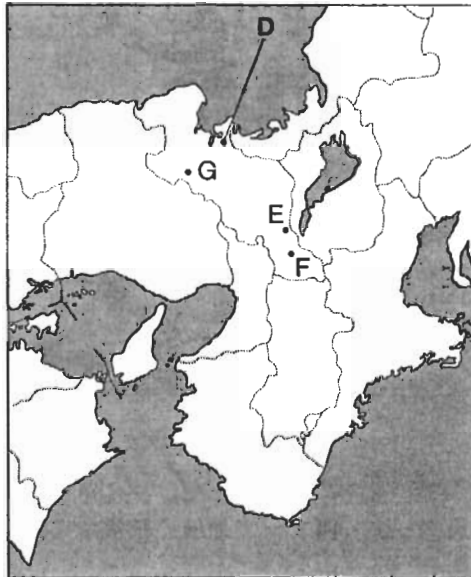
- (ア) 浅井氏・朝倉氏・大友氏 — 九州地方
(イ) 今川氏・^{だく}伊達氏・^{もがみ}最上氏 — 東北地方
(ウ) 上杉氏・武田氏・北条氏 — 関東甲信越地方
(エ) 大内氏・高津氏・毛利氏 — 中国四国地方

問13 下線部⑬について。次の文中の空欄 にあてはまる適切な国名を、次の(ア)～(エ)から一つ選び、記号で答えなさい。

南蛮貿易の影響として、ボタン、テンブラやパン、オルガンという 語から生まれた言葉が、今も日本で使われています。

- (ア) イタリア (イ) フランス (ウ) ポルトガル (エ) ロシア

問14 下線部⑭について。下の地図中のD～Gのうち、京都市の位置を正しくあらわしているものを一つ選び、記号で答えなさい。



問15 下線部⑮について。次の文中の空欄 にあてはまる適切な地名を、漢字3字で答えなさい。

は、五街道の起点として諸国からのひとびとでにぎわいました。その周辺の町並みには、呉服店や両替店りょうがえが見られ、江戸城下の経済や交通の中心として活気があふれていました。

問16 下線部⑯について。ペリーの来航は、どの時期のできごとですか。次の年表の(ア)～(エ)の中から正しいものを一つ選び、記号で答えなさい。

	できごと
古い	(ア)
↑	アメリカ独立戦争がおきた
	(イ)
	アヘン戦争がおきた
	(ウ)
↓	サラエボ事件がおきた
新しい	(エ)

問17 下線部⑰について。

(1) 明治政府が、フランスの教育制度を採用して、1872年に公布したものを、次の(ア)～(エ)から一つ選び、記号で答えなさい。

- (ア) 学制 (イ) 学校教育法 (ウ) 教育基本法 (エ) 教育勅語

(2) 地図中のH～Mから、フランスより国土面積が大きい国をすべて選び、記号で答えなさい。



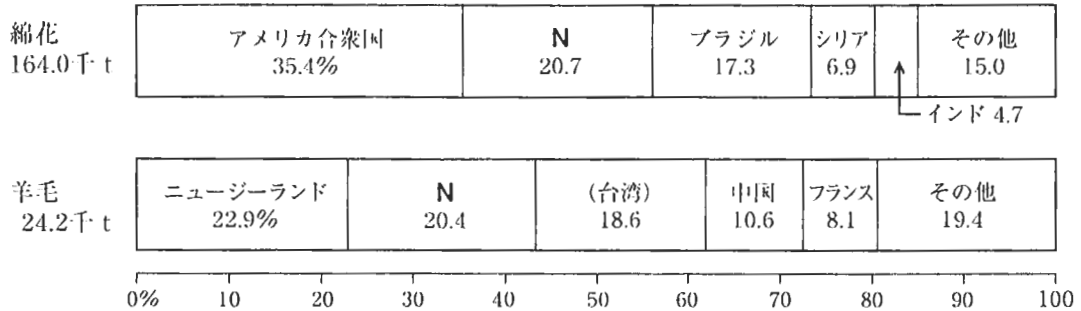
問18 下線部⑱について。ズボンの起源は、古代の中央アジア・西アジア地域のひとびとの衣服にさかのぼるといわれています。中央アジア・西アジア地域に位置する国を、次の(ア)～(エ)から一つ選び、記号で答えなさい。

- (ア) シンガポール (イ) スリランカ (ウ) トルコ (エ) ミャンマー (ビルマ)

問19 下線部⑲について。次の写真は、明治時代のはじめに不平等条約の改正の準備と欧米視察を目的として、アメリカ合衆国やヨーロッパを訪れた使節団を撮影したものです。着物すがたでまげを結び、くつをはいているのは、この使節団の全権大使です。この全権大使の人物名を漢字で答えなさい。



問20 下線部⑳について。現在、日本では洋服などのせんい原料の多くを外国から輸入しています。次のグラフは綿花と羊毛の輸入先の割合をあらわしたものです。グラフ中のNにあてはまる国名を答えなさい。



(2007/08年版『日本国勢図会』より作成)

問21 下線部㉑について。

(1) 関東大震災について述べた説明文として正しいものを、次の(ア)～(エ)から一つ選び、記号で答えなさい。

- (ア) 大震災の被害は関東地方のほか、山梨県や静岡県などにもおよんだ。
- (イ) 大震災がおきた翌年に第一次世界大戦がおきた。
- (ウ) 大震災がおきた6月23日は、現在では防災の日とされて全国で避難訓練がおこなわれている。
- (エ) 震災後に生じた社会的混乱に対処したのは、民主党吉田茂内閣であった。

(2) 関東大震災よりあとに発表されたものを、次の(ア)～(エ)から一つ選び、記号で答えなさい。

- (ア) 政府は太陽暦の採用を発表した。
- (イ) 与謝野晶子が「君死にたまふことなかれ」という詩を『明星』に発表した。
- (ウ) 福沢諭吉が『学問のすすめ』を発表した。
- (エ) 政府は東京で開かれる予定であったオリンピックの中止を発表した。

II 次の文を読み、問いに答えなさい。

日本国憲法は、「地方自治」についてひとつの章を設けています。そこには、地方公共団体には議会がおかれ、①知事や市長などの「首長」や議員は選挙によって選ばれること、地方公共団体はそれぞれ必要な仕事をおこない、②「独自のルール」をさだめられることなどが決められています。つまり、わたしたちが住んでいる地域で、それぞれ自主的に、住民の考えや実情にあわせた政治を自分たちの手でおこなうことが、地方自治です。地方自治は、わたしたちが③民主的な政治を学ぶことができる大切な機会です。

地方公共団体のなかには、炭鉱やメロンで有名な北海道の④市のように、市の財政がいきづまってしまう、最低限の市民サービスもおこなえないのではないかという状態に追いこまれている、という例もあります。自分のまちに対する無関心が引きおこす問題をさけるため、最近は、行政に対する苦情を処理したり、行政が適正におこなわれているかを公正な立場で監視するために⑤とよばれる人をおいたり、議員をとおしてではなく、⑥直接に住民の意思を確認するための住民投票の制度を設けたりする地方公共団体も増え、地方自治についての関心を高めようとしています。また、⑦憲法やその他の法律にも、必要に応じて投票を実施することをさだめたきまりもあります。

問1 下線部①について。地方公共団体の選挙について述べた説明文として正しいものを、次の(ア)～(エ)から一つ選び、記号で答えなさい。

- (ア) 直接選挙で選ばれた議員で構成されている地方議会は、国会と同じように慎重な審議をおこなうために二院制をとっている。
- (イ) 地方公共団体の首長として選挙に立候補することができるのは、20歳以上の日本国籍を持つ人である。
- (ウ) 議会によって首長の不信任決議が可決された場合には、首長が10日以内に議会を解散しなければ、その首長は失職する。
- (エ) 地方議会の議員の任期は、参議院議員の任期と同じなので、選挙はいつも参議院選挙と同じときにおこなわれる。

問2 下線部②について。次の文章(a)～(d)は「独自のルール」について説明しています。正しい文の<組合せ>として正しいものを、次の(ア)～(カ)から選び、記号で答えなさい。

- (a) この「独自のルール」のことを政令といい、それぞれの地方議会が議決したうえで国会での議決も必要となる。
- (b) この「独自のルール」は、日本の法律に反することをさだめることができないし、それをさだめた地方公共団体のなかでしか通用しない。
- (c) この「独自のルール」は、すべて制定から4年間という期限つきで、それをすぎると議会で更新されない限り効力をうしなう。
- (d) 住民が新しい「独自のルール」の制定を請求する場合は、有権者の総数の50分の1以上の署名を集めることが必要である。

<組合せ>

- (ア) (a) と (b) (イ) (a) と (c) (ウ) (a) と (d)
- (エ) (b) と (c) (オ) (b) と (d) (カ) (c) と (d)

問3 下線部③について。民主的な政治について述べた文として誤っているものを、次の(ア)～(エ)から一つ選び、記号で答えなさい。

- (ア) 日本の民主政治は、国民が選挙によって代表を議会に送り、そこで法律をさだめ予算を議決し、総理大臣を指名する、という直接民主制のかたちをとられている。
- (イ) 民主政治における重要な価値の一つである基本的人権には、自由権や法の下での平等、参政権、社会権などがあり、最近はこれに環境権などの新しい権利を加えるべきだといわれている。
- (ウ) フランスの学者モンテスキューは、権力が一人の人や機関に集中することを防ぐため、政治権力を分散させておたがいにチェックしあうことが大切だ、と考えた。
- (エ) 地方公共団体は、わたしたちにとってより身近な場面で民主政治を実践し学ぶ場であるので、「地方自治は民主主義の学校」といわれている。

問4 空欄 ④ にあてはまる適切な地名を漢字で答えなさい。

問5 空欄 ⑤ にあてはまる適切な語をカタカナで答えなさい。

問6 下線部⑥について。1997年に沖縄県の名護市でおこなわれた住民投票や、2006年に山口県岩国市でおこなわれた住民投票は、何についての住民の意思を確認しようとしておこなわれましたか。正しいものを、次の(ア)～(エ)から一つ選び、記号で答えなさい。

- (ア) 原子力発電関係の施設の建設が問題となって住民投票がおこなわれた。
- (イ) 隣接する市との合併に賛成するかどうか我问われた住民投票だった。
- (ウ) 産業廃棄物最終処分場の建設に賛成か反対かについて住民投票が実施された。
- (エ) 在日アメリカ軍の基地の移転や再編成について賛成か反対かについて住民投票が実施された。

問7 下線部⑦について。その例として誤っているものを、次の(ア)～(エ)のうちから一つ選び、記号で答えなさい。

- (ア) 外国とむすぶ条約の承認や、最高裁判所長官の任命についての承認には、国民投票が必要である。
- (イ) 特定の地方公共団体だけにあてはまる法律をつくるときは、その地方公共団体での住民投票が必要である。
- (ウ) 憲法の改正が国会で発議されると、その改正案は国民投票にかけなければならない。
- (エ) 地方の首長や議員の辞職、地方議会の解散の請求が受けつけられると、有権者による投票が実施される。