

# B 算数 08

解答用紙

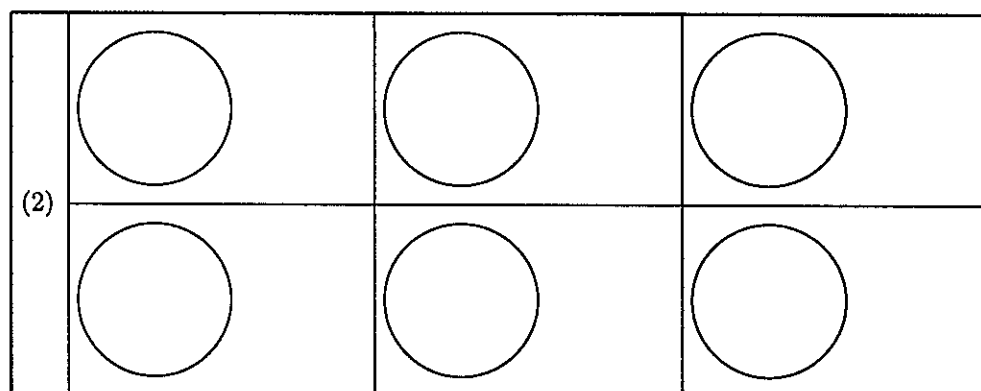
受験番号	氏名

(注意) 式や図や計算などは、他の場所や裏面などにかかないで、すべて解答用紙のその問題の場所にかきなさい。

**1** (1)

(1)	
-----	--

(2)



(すでに、面積が  $27\text{cm}^2$  の円はかいてある)

**2**

方眼の1目盛りは1mである

影の面積	m <sup>2</sup>
------	----------------

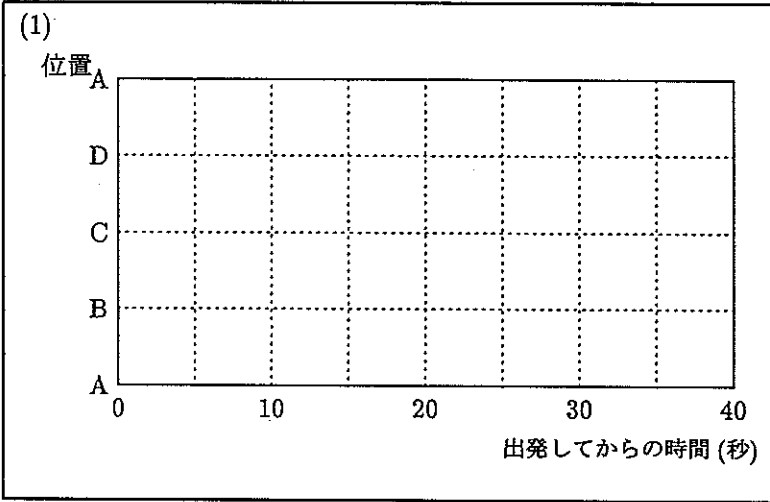
# C 算数 08

解答用紙

受験番号	氏名

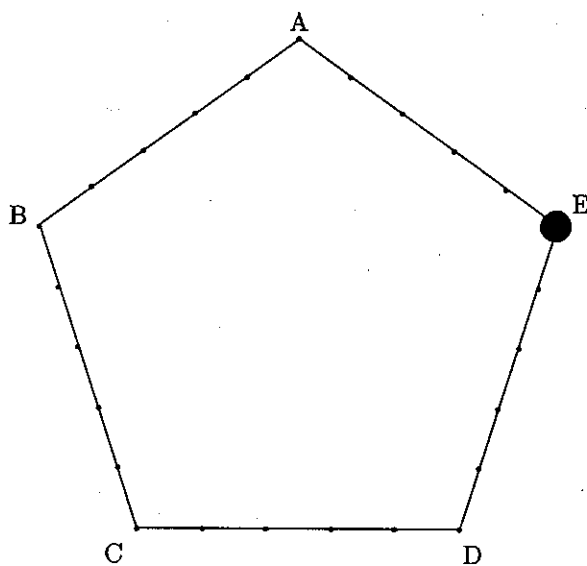
(注意) 式や図や計算などは、他の場所や裏面などにかかないで、すべて解答用紙のその問題の場所にかきなさい。

**3**



	点Qの速さは秒速 _____ cm
(2)	点Pと点Qが2回目に重なるのは _____上の _____から _____ cmの地点

**4**



(1)	
(2)	通り
(3)	
	秒