

2021年度 女子学院中学校入学試験問題 (社会)

受験番号 () 氏名 [] (語句はできるだけ漢字で書きなさい。)

I

日本列島は生物多様性に恵まれています。縄文時代以来、人々は①住居をつくり、狩りや漁をし、木の実などを採集したりしてきました。その後、水稲農耕が始まり、米が主要な食料に加わります。やがて②大和政権(朝廷)、さらに③律令国家が成立するに至りました。

④平安時代までの食事は、食べる際に自分で塩などをつけて味付けするという単純なものでした。⑤鎌倉時代になると、ゴマ油や濃い調味料で味付けされた料理が作られるようになりました。鎌倉時代の僧、一遍を描いた絵巻には、市に掘立て小屋が並び、米・魚・塩などが売られている様子が描かれています。また⑥14・15世紀の資料には、多様な食品が棚に並び、売られている様子が記されています。⑦昆布やかつお節などは室町時代より「だし」として料理に使われるようになりました。また、醸造業が発達し、酢・みりん・(X)などの調味料が普及します。⑧16世紀には、⑨新大陸原産のカボチャやトウガラシ、油で揚げる料理、金平糖やカステラなどの⑩砂糖を用いた菓子が伝わりました。

⑪江戸時代には流通網が整備され、魚市場や青物市場に多様な食材や加工品が集まりました。城下町や宿場町には食べ物屋や料理店が並ぶ一方、⑫江戸時代になっても多くの農民はヒエ・アワなどの雑穀を主食にしていました。⑬食は、時代とともに変化してきました。

問1 下線①に関して、絵1と絵3では、家の建て方はどう変化しましたか。絵2にふれて説明しなさい。(絵は一部加工しています。)

絵1


絵2 室町時代 職人2人で

絵3 室町時代 京都の町家


平安時代の
竪穴住居



大鋸(おが)を使って作業する姿



「三十二番職人絵合」より



「洛中洛外図屏風」より

問2 文中空欄(X)にあてはまる、銚子などで生産されてきた調味料をひらがなで書きなさい。

問3 上の文章の内容から、各時代の食材や料理としてふさわしくないものを含む組み合わせを1つ選び、記号で答えなさい。

- | | |
|----------------------|---------------------|
| ア 縄文時代—木の実・焼いた肉・干した貝 | イ 弥生時代—米・焼いた魚・木の実 |
| ウ 平安時代—米・つくだ煮・海草 | エ 室町時代—米・ごま豆腐・お吸いもの |
| オ 江戸時代—米・天ぷら・うどん | |

問4 下線②に関して、4世紀から6世紀のできごとではないものを2つ選び、記号で答えなさい。

- | | |
|----------------------------|--------------------------|
| ア 巨大な前方後円墳が各地に造られた。 | イ まわりを堀やさくで囲んだ集落が初めて現れた。 |
| ウ 「ワカタケル」と読める人名が漢字で記された。 | エ 古事記や日本書紀がまとめられた。 |
| オ のぼりがまを用いて薄くてかたい土器がつくられた。 | |

問5 下線③に関して、平城京には食材など様々な特産物が運び込まれました。各地の人々はなぜ、特産物を都に運んだのですか。

問6 下線④に都で行われていたことを1つ選び、記号で答えなさい。

- | | | | | |
|---------|------|-----|-------|---------|
| ア ぼんおどり | イ 七夕 | ウ 能 | エ 歌舞伎 | オ 人形浄瑠璃 |
|---------|------|-----|-------|---------|

問7 下線⑤について述べた文として、正しいものを2つ選び、記号で答えなさい。

- | |
|---|
| ア 御家人は守護に任命され、米などの年貢の取り立てに当たった。 |
| イ 御家人は、市の立つ土地を含めた領地の一部を、奉公として幕府に差し出す義務を負った。 |
| ウ 源氏の将軍は3代で絶え、北条氏が執権として政治を行った。 |
| エ 元の大軍と戦った時、幕府は防衛のため、朝廷に命令して博多湾沿岸一帯に石垣をつくらせた。 |
| オ 陸上交通の便が良いところや、海や河の水運が使用できる場所に、市が立った。 |
| カ 幕府は一遍など比叡山延暦寺の勢力を弾圧した。 |

問8 下線⑥の前後のできごとを、古い順に記号で並べかえなさい。

- | |
|--|
| ア 朝廷が南朝と北朝に分かれて対立し、戦乱のため食料の確保に苦勞する貴族もいた。 |
| イ 木や石の配置に工夫をこらした庭園のある銀閣がつけられた。 |
| ウ 六波羅探題が滅ぼされ、町中が混乱して市での売買にも影響が及んだ。 |
| エ 幕府が明と貿易を開始し、珍しい物産が輸入された。 |

問9 下線⑦に関して、現在、昆布の生産量とかつおの漁獲量がもっとも多い都道府県をそれぞれ1つずつ選び、記号で答えなさい。

- (1) 昆布 ア 徳島県 イ 鹿児島県 ウ 佐賀県 エ 北海道 オ 福井県
(2) かつお ア 島根県 イ 福岡県 ウ 静岡県 エ 新潟県 オ 熊本県

問10 下線⑧の商工業者を描いた絵には、女性が酒、餅、ところてん、そうめんを売り歩く様子が見られます。

- (1) ところてんの主な原材料を1つ選び、記号で答えなさい。
ア ワラビ科の植物の地下茎 イ マメ類 ウ 海藻のテングサ エ 動物の皮や骨に含まれるゼラチン
(2) そうめんの主な原材料を1つ選び、記号で答えなさい。
ア ジャガイモ イ カタクリ ウ 米 エ 小麦

問11 下線⑨について、新しい食材や料理を伝えたのは、どこの商人ですか。代表的な国名を1つ答えなさい。

問12 下線⑩の原料であるサトウキビについて述べた文として、まちがっているものを1つ選び、記号で答えなさい。

- ア 生育期は高温多雨、収穫期は乾燥する気候が、栽培に適している。 イ 地下に深く根を張るので、台風などの強風や日照りに強い。
ウ 日本では、主に沖縄県と鹿児島県で栽培されている。 エ 日本産の砂糖の大半は、サトウキビを原料としている。

問13 下線⑪の様子を述べた文として、まちがっているものを1つ選び、記号で答えなさい。

- ア 様々な商品を取引した大阪や長崎は、幕府が直接支配した。
イ 各藩は、大阪や江戸などの大都市へ特産物を運んで売った。
ウ 武家諸法度に違反した大名は幕府に取りつぶされ、家屋敷は都市の商人に売り渡された。
エ 大名の家臣たちは、城下町に集められて住み、城の周辺に武家屋敷が立ち並んだ。

問14 下線⑫に関して、明治時代になると主食に米を食べる人の割合が増え、ヒエ・アワなどの雑穀を食べる人の割合が減りました。この変化の理由を述べた文として、まちがっているものを1つ選び、記号で答えなさい。

- ア 海外から安価な米が輸入されるようになったから。
イ 品種改良の結果、米の収穫量が増えたから。
ウ 東京や大阪などの都市に住み、米を購入する人が増えたから。
エ 雑穀を育てていた畑を桑畑に変え、養蚕で収入を得た農家が米を買うようになったから。
オ 農民に現金で税を納めさせるようになり、豊作のときには政府が税率を下げたから。

問15 下線⑬に関して、明治時代以降の食について書かれた文を、古い順に記号で並べかえなさい。

- ア 食品加工業が発達し、調理済みの冷凍食品が広まった。
イ 鹿鳴館が建てられ、外国人に洋食のコース料理が提供された。
ウ 第一次世界大戦で日本軍捕虜になったドイツ人により、パウムクーヘンが日本に紹介された。
エ 米の節約のため、水分を増し、大根などの野菜を加えた雑炊やすいとんが代用食とされた。

II

①昭和初期の不景気の中で、学校に弁当を持って行けず、②食事がとれない児童の増加など社会問題が起きました。③日中戦争・太平洋戦争が終わった後、国は④長崎県に⑤広大な水田を造成する計画を立てました。その他の地域でも、⑥水田にする目的で新しい耕地がつくられました。長崎県の水田造成事業はその後、目的や規模が当初の計画から大きく変わりました。またこの事業の影響で、佐賀県では遠浅で干満の差が大きい海を利用した(X)の養殖など、漁業への影響が指摘されています。

問1 下線①に関して

- (1) 農民の生活向上に努め、この頃「雨ニモマケズ」を書いた人物を次から選び、記号で答えなさい。
ア 石川啄木 イ 宮沢賢治 ウ 金子みすず エ 新美南吉
(2) 下線①以降のできごとをすべて選び、記号で答えなさい。
ア 米騒動が全国に広がった。 イ アメリカが日本への石油輸出を禁止した。
ウ 足尾銅山鉱毒事件が起こった。 エ 軍人が大臣らを殺害する二・二六事件が起こった。
オ 日本が韓国を併合した。 カ 全国水平社が結成され、差別をなくす運動が展開された。

問2 下線②に関して、戦後、アメリカから給食用物資が日本に提供されたことをきっかけに、学校給食が広まりました。学校給食の説明として、まちがっているものを2つ選び、記号で答えなさい。

- ア 戦後、海外からの脱脂粉乳の支援があり、のちに学校給食で牛乳が出されるようになった。
イ 給食の普及は、子どもたちの栄養状態の改善を目指して進められた。
ウ 戦後、アメリカから日本に小麦粉が提供され、パンの給食が始まった。
エ 米飯が給食で頻繁に出されるようになったのは、輸入小麦粉が不足したからである。
オ 学校給食は全国的な制度であるが、各地で郷土料理が献立に取り入れられている。
カ 学校給食は費用を安く抑える必要があるため、地元の産物ではなく安価な輸入食材がほとんどを占めている。

問3 下線③の戦中・戦後の食料に関して述べた文として、正しいものを2つ選び、記号で答えなさい。

- ア 太平洋戦争が泥沼化して食料や日用品が不足すると、まず農村から配給制が始められた。
- イ 政府は国民に対して「ぜいたくは敵だ」などのスローガンによって倹約や節約を奨励した。
- ウ 配給所で食料や日用品を配給する作業は、すべて役人が行った。
- エ 学童疎開先では、子どもの成長に欠かせない動物性たんぱく質が多く含まれた食事が提供された。
- オ 配給量も不足したため、人々は空き地にカボチャやさつまいもを植えて自給に努めた。
- カ 日本が連合国に降伏して戦争が終結するとともに、配給制も終わった。
- キ 家計に占める食費の割合は、1940年代後半から1970年代にかけて大幅に増大した。

問4 下線④に関して述べた文として、まちがっているものを2つ選び、記号で答えなさい。

- ア 隠岐諸島をはじめ多くの島々があり、アジやサバなどの漁獲量が多い。
- イ 山がちで平野が少なく、活動が活発な火山がある。
- ウ 1945年8月9日、アメリカによって日本に2発目となる原子爆弾が投下され、多くの犠牲者が出た。
- エ 殖産興業の政策がとられる中で造船所がつくられ、明治時代に造船業が発展した。
- オ 日米修好通商条約の締結後、それまで長崎で行われていたオランダ貿易と同じ制限のもと、欧米との貿易が行われた。
- カ 戦国時代には宣教師による布教が行われ、キリスト教が広まった。

問5 下線⑤に関して、この公共事業によって、1997年に一部が潮受け堤防で閉め切られた場所を次の中から選び、記号で答えなさい。

- ア 八代海
- イ 熊野灘
- ウ 諫早湾
- エ 玄界灘
- オ 島原湾

問6 下線⑥に関して、次のうち、一般に水田として利用するのにもっとも適さない場所を1つ選び、記号で答えなさい。

- ア 干拓地
- イ 扇状地
- ウ 湿地
- エ 三角州

問7 文中(X)にあてはまる水産物をひらがなで書きなさい。

III

飼料作物とは、①家畜のエサとする作物のことです。②牧草のほか、③トウモロコシや大豆、④飼料用米、アワ、キビ、ヒエなどの雑穀と多くの種類があります。雑穀はかつて日本で⑤主食として重要であり、広く栽培されていました。「濡れ手で粟」ということわざがあることから、とても⑥身近な農作物だったことがわかります。今でも五穀米や十穀米などに含まれ、健康によい食品として利用されていますが、日本では⑦雑穀は昔よりも生産が少なくなっています。⑧日本の農業を考える上で、今後、⑨食料自給率を高めることが求められています。

問1 下線①について

- (1) 中国との外交や貿易で栄えたため、明治時代以前から豚の飼育が盛んに行われ、豚肉料理が伝統料理として定着している地域はどこですか。現在の都道府県名で答えなさい。
- (2) 牛乳や乳製品の生産に関わる次のできごとを、古い順に記号で並べかえなさい。
 - ア 徳川吉宗は、オランダ商館長から熱心に知識を取り入れ、その助言により乳牛の飼育を始めた。
 - イ 大宝律令で「乳戸」と呼ばれる酪農家が設けられ、牛乳の加工品がつくられた。
 - ウ 北海道開拓使による官営工場、外国人技術者の指導の下、牛乳・乳製品の製造が行われた。
 - エ 藤原道長は、牛乳の加工品と蜜を練り合わせ加熱したものを愛用していた。

問2 下線②は飼料作物として栽培されています。牧草地を示すと考えられる地図記号を次の中から選び、記号で答えなさい。

- ア 
- イ 
- ウ 
- エ 

問3 下線③に関して

- (1) トウモロコシと小麦を日本がもっとも多く輸入している国名を答えなさい。
- (2) トウモロコシ・小麦・米など穀物の自給率が高い順に、国名を記号で並べかえなさい。
 - ア 中華人民共和国
 - イ サウジアラビア
 - ウ カナダ
 - エ 日本

問4 下線④は、近年、政府の推進もあって生産量が増加しています。政府が生産を推進する理由としてまちがっているものを1つ選び、記号で答えなさい。

- ア 主食の米を作っていた水田で生産が可能だから
- イ 耕作放棄地の減少につながるから
- ウ 農地の環境を維持することができるから
- エ 今後の重要な輸出品として期待されているから

問5 下線⑤の米について述べたこととして、まちがっているものを1つ選び、記号で答えなさい。

- ア カロリー(熱量)を多く摂ることができる。
- イ 通常、加熱して食事にとり入れている。
- ウ 日本では数十年前と比べて一日の食事の中での割合が増えた。
- エ 菓子など様々な形態に加工されて利用されている。

問6 下線⑥に関して、次のうち、みかんの生産量をもっとも少ない県を1つ選び、記号で答えなさい。

- ア 熊本県
- イ 広島県
- ウ 神奈川県
- エ 埼玉県
- オ 愛知県

問7 下線⑦の理由としてふさわしいものを2つ選び、記号で答えなさい。

- ア より高く売れる農作物を畑で生産するようになったから
 イ 日常生活であまり食べなくなったから
 ウ 食糧不足を補うため、外国からの輸入が戦後急速に増加したから
 エ 土地がやせて生産できなくなってしまったから

問8 下線⑧に関して

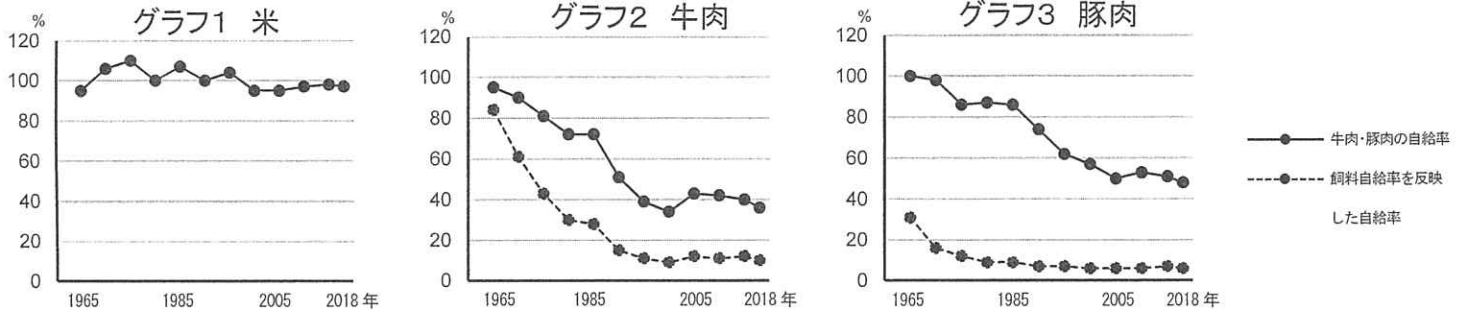
(1) 日本の農業では、促成栽培など様々な工夫が行われています。通常、促成栽培でつくられていないものを2つ選び、記号で答えなさい。

- ア なす イ ピーマン ウ ごぼう エ きゅうり オ トマト カ さつまいも

(2) 農家の経営にとって、促成栽培の利点を説明しなさい。

問9 下線⑨について、グラフ1は米の自給率の変化を表しています。この変化にもっとも近いものを1つ選び、記号で答えなさい。

- ア りんご イ 鶏卵 ウ 大豆 エ 粟 オ マグロ カ しいたけ



(農林水産省 食糧需給表より作成)

問10 下線⑩に関して、肉類には、通常の自給率と、飼料自給率を反映した自給率（国産のエサで育てられている割合）の2種類が公表されています。グラフ2・グラフ3は、牛肉・豚肉の自給率と飼料自給率を反映した自給率を表しています。グラフ2・グラフ3から分かることとして、まちがっているものを1つ選び、記号で答えなさい。

- ア 自給率は豚肉の方が高い状態を保ってきた。
 イ 牛肉と豚肉は、1980年代半ばから2000年代に海外からの輸入が特に増加した。
 ウ 1965年ころに注目すると、牛と豚の飼料の主な中身は異なると考えられる。
 エ 豚は牛より国産の飼料の割合が高い状態が続いてきた。

問11 下線⑨に関して述べた文として、正しいものを2つ選び、記号で答えなさい。

- ア 食料自給率が100%を超える国は、先進国の中には存在しない。
 イ G7の国の中で、この50年間に食料自給率の上昇が持続した国がある。
 ウ 国際連合には、食料や農業を扱う専門機関が存在する。
 エ 世界の中には、穀物の自給率がゼロの国は1つもない。

IV

政府の食料政策は、国民の食や農業に影響を与えてきました。また、毎日の生活の中で何をどのように食べるかということは、私たちの社会の現在、そして将来に関わっています。

問1 「健全な食生活を実践することができる人間を育てる食育を推進」することを目的とした食育基本法が2005年に制定され、小学校・保育園・幼稚園などで取り組みが進められています。

(1) 法律は国会でつくられます。国会について述べた文として正しいものを2つ選び、記号で答えなさい。

- ア 国民は、報道機関を除き国会を傍聴することはできない。
 イ 国会は選挙で選ばれた議員によって構成されるので、任期途中で解散されることはない。
 ウ 国会と内閣、裁判所の三権は分立しているので、国会が裁判官をやめさせることはできない。
 エ 国会は、内閣の提出した予算案を審議し、1年ごとの予算を決める。
 オ 国会議員でない者は、総理大臣にはなれないが、国務大臣にはなれる。

(2) この法律の理念とは合わない取り組みを1つ選び、記号で答えなさい。

- ア 家庭で朝食をとることが難しい児童に対し、学校で朝食の提供を行う。
 イ 小学校に栄養教諭を設置し、食育指導に当たる。
 ウ 栄養や食事マナーに関する親子教室を開き、食育への取り組みを保護者に奨励する。
 エ 給食を残さず食べてもらうため、素早く食べられる人気のハンバーガーを取り入れる。

問2 市街地やその周辺において行われる農業を、都市農業とといいます。

(1) 都市の街づくりに農業が必要だとした都市農業振興基本法が2015年に成立しました。都市農業の役割には関係しないものを2つ選び、記号で答えなさい。

- ア 高価格な農作物の開発 イ 雨水の保水 ウ 鮮度の高い作物の提供 エ 景観の保全 オ 住民や学童の農業体験の提供
カ 災害時の防災空間 キ 大規模農業のための区画整理 ク ヒートアイランド現象の抑制

(2) 都市農業振興基本法は国会議員によって法案が提出され、成立しました。その過程として正しいものを1つ選び、記号で答えなさい。

- ア 参議院農林水産委員会で議決 → 参議院本会議で議決 → 衆議院本会議で議決・成立
イ 参議院本会議で議決 → 参議院農林水産委員会で議決 → 衆議院本会議で議決 → 衆議院農林水産委員会で議決・成立
ウ 参議院本会議で議決 → 衆議院農林水産委員会で議決 → 衆議院本会議で議決・成立
エ 参議院農林水産委員会で議決 → 参議院本会議で議決 → 衆議院農林水産委員会で議決 → 衆議院本会議で議決・成立

問3 アメリカでは、植物由来の肉を取り入れる様子が見られます。植物由来の肉についての説明として、まちがっているものを2つ選び、記号で答えなさい。

- ア 植物由来の肉に切り替えても、温室効果ガスは減少しない。
イ カロリー面などの点から健康志向に合っている。
ウ ハンバーガーショップなど飲食店でも提供されるようになった。
エ アメリカ人の半分以上が宗教上の理由で牛肉を食べないことが開発のきっかけとなった。
オ 肉だけでなく、牛乳に代わる植物由来のミルクがすでに販売されている。
カ フード（食品）とサイエンス（科学）を掛け合わせた食の技術革新が開発の背景にある。
キ 現在、植物由来の肉の実用化は他国でも進行している。

問4 2019年10月に消費税が8%から10%へ増税されました。この際には、酒類・外食を除く飲食料品の消費税率を8%に据え置く軽減税率が導入されています。

(1) 消費税について述べた文として正しいものを2つ選び、記号で答えなさい。

- ア 年齢に関係なく広く国民から集めることができる。
イ 収入が少ない人ほど、税率の上昇により生活への打撃を受ける。
ウ 税率を上げると景気が良くなる。
エ 税率を上げる直前は、短期的にもものが売れなくなる。
オ 税率を上げることは、内閣の判断だけでできる。

(2) ものやサービスによっては、軽減税率が導入される以前から消費税がかからないものもあります。次のうち、消費税がかからないと考えられるものはどれですか。3つ選び、記号で答えなさい。

- ア 車いす イ 自転車 ウ 出産費用 エ 住民票の発行 オ 学校の制服 カ ランドセル

問5 家庭の食卓に食料が安定的に並ぶことは大切です。日本において食料供給が今後数十年にわたって滞る原因となると考えられるものを4つ選び、記号で答えなさい。

- ア 輸出国で紛争が起り、輸送網が混乱した。
イ 農業や漁業に携わる人々の後継者が減った。
ウ 効率よく生産するため、年間を通して同じ畑で同じ作物を栽培する。
エ 輸出国の天候不順によって、凶作が発生した。
オ 世界規模での温暖化が進行した。
カ 世界的に感染症が発生し、農作業に従事する外国人労働者が激減する。
キ 農薬や化学肥料を大量に用いて、安く生産する。
ク アブラムシが大発生し、虫害が起きる。

問6 企業や家庭などが廃棄しようとしている食品を寄付してもらい、必要としている人に提供する民間の活動をフードバンクとといいます。フードバンクのようなしくみが必要とされているのは、憲法に書かれている何という制度が不十分だからですか。

解 答 用 紙 (社 会)

I

問 1																		
問 2					問 3			問 4				問 5						
問 6			問 7					問 8	→ → →			問 9	(1)		(2)			
問 10	(1)		(2)		問 11					問 12			問 13			問 14		
問 15	→ → →																	

II

問 1	(1)			(2)				問 2			問 3			問 4		
問 5			問 6				問 7									

III

問 1	(1)				(2)				問 2			問 3	(1)				
					→ → →												
問 3	(2)					問 4			問 5			問 6			問 7		
問 8	(1)		(2)														
問 9			問 10				問 11										

IV

問 1	(1)		(2)		問 2	(1)		(2)		問 3					
問 4	(1)		(2)			問 5							問 6		
														制度	

受験番号 () 氏 名 [

]

得点

--	--