

## 社会

### 令和2年度 渋谷教育学園渋谷中学校入学試験問題

- 注** ・答えはすべて解答らんにおさまるように記入して下さい。  
・字数の指定がある問題については、次の①と②に注意して下さい。
- ①句点（「。」）や読点（「、」）は、それぞれ1字として数えます。  
②算用数字を用いる場合は、数字のみ1マスに2字書くことができます。

例1) 「2020年」と書く場合 

20	20	年
----	----	---

例2) 「365日」と書く場合 

36	5	日
----	---	---

 または 

3	65	日
---	----	---

以下は、2019年の2学期最初の中学1年生社会科の授業での渋谷先生（以下先生）、教子、育夫の3人の会話です。この会話文を読み、下記の問いに答えなさい。

先生：1学期の終わりに参議院議員選挙がありましたね。君たちにはまだ選挙権はないですが、選挙はこれからの日本の在り方に対する国民の意見を聞く重要な機会です。選挙権を持ったときにあわてて考え始めたりしないように、今からちゃんと政治に注目しておかないといけませんね。

教子：はい、各政党や候補者の意見も新聞でチェックしていました。

先生：それは素晴らしい。

育夫：でも、先生、選挙になると、いつも「一票の格差」が問題になりますよね。たしか、[a] 裁判所からもこの問題をなんとかすべきだという見解が出されたと思いますが。

先生：よく勉強していますね。では、「一票の格差」とはどんな問題なのか少し説明してみましょう。参議院の場合、全国区での比例代表選挙と、おおむね都道府県を単位とした選挙区選挙を採用してきました。そして、その選挙区内での有権者の数と議員定数の割合が、選挙区によって大きく異なることがあるのです。それによって、例えばある選挙区では1000票を獲得して落選した候補者がいる一方で、別の選挙区では500票で当選する候補者が出てしまうということが起きます。これはつまり、前者の選挙区と比較して、後者の選挙区での投票（一票）には、【 A 】ということになりますね。

教子：それは問題だと思います。[b] 憲法で保障されている基本的人権にも反していると思います。

先生：そうですね。だからこそ、裁判所も正すように判断を下したのです。

育夫：たしか参議院では合区の導入も含めた定数変更がなされましたよね。

先生：そうです。育夫君もよく知っていますね。2016年の参議院議員選挙より合区が導入される新制度となり、選挙区の定数は正が行われました。従来の都道府県を単位とした選挙区のうち、定数が増加したものがあ一方で、初めて合区が導入されたのです。

この表（2ページ）は、このときの定数修正の一覧を示したものです。

この表を見ると、どの選挙区も増減は2ずつですね。前々回の定数修正も、そのさらに前の修正も増減は2ずつだったんですよ。そして、どの選挙区も必ず定数は偶数になっているんですが、どうしてでしょうか。

教子：そうか、参議院の場合、定数を偶数にしているのは、からなんですね。

先生：そうです。これも参議院の特徴ですね。

ところで、今回の選挙の投票率（選挙区）は、戦後2番目の低さだったそうです。

これは大きな問題です。私たち国民が、国の政治に関わる組織のうちでその構成員を直接選ぶことができるのは、三権をつかさどるもののうち（①）だけです。だからこそ（①）は「（②）の最高機関」と呼ばれているのです。

そもそも、政治権力はとても大きな力を持っているために、この力を悪用されないようにしておかななくてはなりません。そのことを定めているのが憲法です。政治権力を憲法によって制限して、憲法に基づいて政治が行われるという考え方を（③）と呼びます。近代においてこの

( ③ ) の考え方を明確にしたのが「フランス人権宣言」です。これは1789年に始まったフランス革命のさなかに表明されました。その100年後に、アジアで ( ④ ) が制定されました。このように政治に対する基本的な考え方は、数百年にわたる伝統に基づいているのです。このことを忘れないようにしないとといけません。

育夫：はい、僕も18歳になったら必ず投票に行こうと思います。

先生の示した表

合区を含む選挙区の定数是正 [平27] (10増10減)			
《増員区》	北海道 4→6 兵庫県 4→6	東京都 10→12 福岡県 4→6	愛知県 6→8
《減員区》	宮城県 4→2	新潟県 4→2	長野県 4→2
《合区》	鳥取県および島根県 2	徳島県および高知県 2	

参議院HP「参議院議員選挙制度の変遷」より作成

問1 会話文中の下線部 [a] について、裁判所の判断に対応して、制度の変更を決定すべき組織として、正しいものを次のア～オより1つ選び、記号で答えなさい。

ア. 国会      イ. 裁判所      ウ. 都道府県議会      エ. 内閣      オ. 選挙管理委員会

問2 会話文中の【 A 】に当てはまる文として、正しいものを次のア、イより選び、記号で答えなさい。

ア. 2倍の価値がある  
イ. 2分の1の価値しかない

問3 会話文中の下線部 [b] について、下記の問いに答えなさい。

- (1) 「一票の格差」の問題は、憲法で保障されている基本的人権のうちの「何権」に反していると考えられるか、答えなさい。
- (2) 「一票の格差」の問題と同様の問題と考えられる事例を、これまでにあった出来事を記した次の文章ア～エより1つ選び、記号で答えなさい。

ア. フランチャイズ制のコンビニエンスストアの店主たちが、経営面で同じような問題を抱えている店主たち合同での話し合いを運営会社に対して求めたが、実現しなかったため、訴訟を起こそうとした。

イ. 薬局を開こうとした人が県に営業申請をしたところ、他の薬局から100m離れていなければならないことを定めた薬事法や、県の条例を理由に許可されなかったため、訴訟を起こした。

ウ. ある会社で、男性は「総合職」女性は「一般職」に分けるコース別人事制度をとっていたことに対して、不合理な男女差別だとして、女性社員たちが訴訟を起こした。

エ. 生活保護を受けていた人が、保護基準が「健康で文化的な最低限度の生活」の保障に十分ではないため、保護基準を上げるように主張して訴訟を起こした。

問4 会話文中の教子の発言の空らん 

あ
---

 に当てはまる語句(文)を答えなさい。

問5 会話文中の空らん ( ① ) ～ ( ④ ) に当てはまる語句を答えなさい。

2

以下の文章と【史料A～E】を読み、問いに答えなさい。

いつの時代にもその当時の人々にとって驚きの出来事がありました。そうした出来事は様々な形で記録されることで現在に伝わっています。過去の出来事を記録した史料を通して、驚きの出来事やその影響について考えてみましょう。

【史料A】

中大兄は、子麻呂らとともに不意に剣で入鹿の頭と肩を切り裂いた。入鹿は驚いて起き上がった。子麻呂は剣をぬいて、入鹿の足を切りつけた。入鹿は椅子に転がりながらたどりつき、床に頭をつけて「まさに天皇の位にあるべきは天の子です。私に罪はありません。詳しい調査を望みます」と申し上げた。①天皇は大いに驚き、中大兄に対して「私は（事情を）知らない。何でこのようなことになったのか」とおっしゃられた。中大兄は、伏して「入鹿は天皇家を滅ぼし、位を傾けようとしていました。どうして天皇家が入鹿に取って代わられることがあるのでしょうか」と申し上げた。

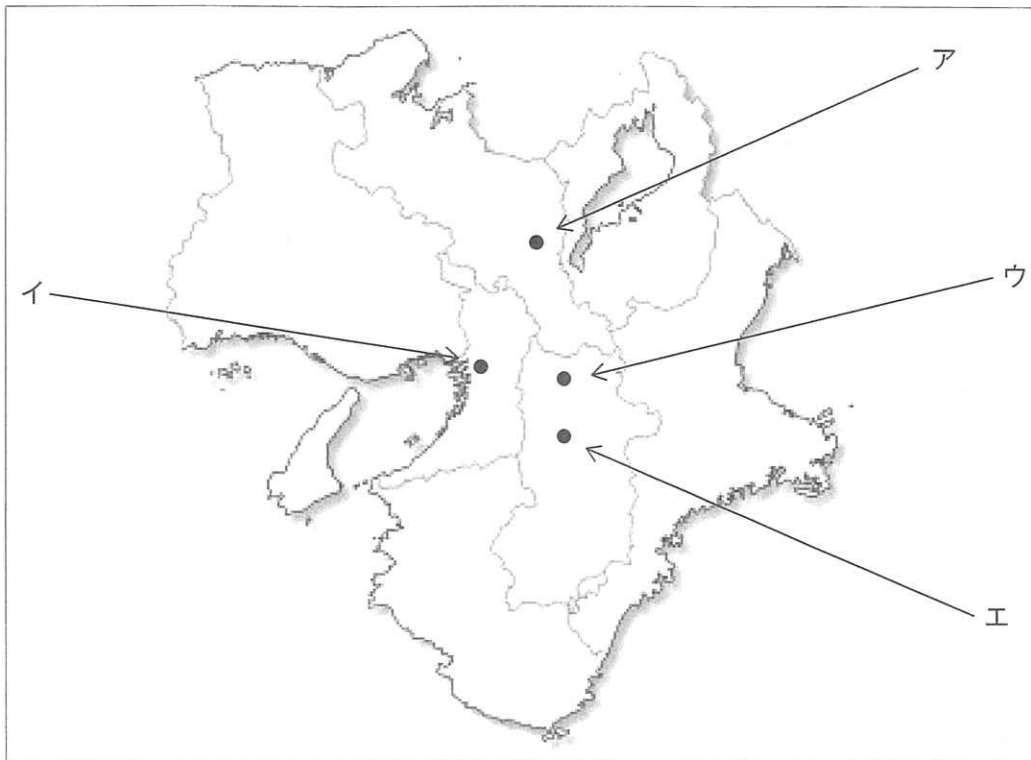
『日本書紀』より

出題者が現代語に改めた。

問1 文中の下線部①の天皇は誰か。次のア～エより1つ選び、記号で答えなさい。

ア. 桓武天皇      イ. 皇極天皇      ウ. 聖武天皇      エ. 推古天皇

問2 この出来事が起きた場所を次の地図中ア～エより1つ選び、記号で答えなさい。(府・県境は現在のものを表している。)



問3 この出来事を機に大化の改新と呼ばれる新しい政治が始まりました。大化の改新の政策としてふさわしいものを次のア～エより1つ選び、記号で答えなさい。

- ア. 遣隋使として小野妹子を中国に派遣した。
- イ. 蝦夷を征討するために坂上田村麻呂を征夷大將軍に任命した。
- ウ. 戸籍・計帳・班田収授の法をつくることを命じた。
- エ. 天皇を補佐する摂政・関白が政治の実権を握るようになった。

【史料B】

その翌日、良沢の家に集まり、前日のことを語り合い、まずあの『ターヘル・アナトミア』の書にむかった。しかしまことに艣も舵もない船で大海に乗り出したようで、茫洋として寄りつくところもなく、ただ、あきれにあきれているだけであった。

しかし良沢はかねてからこのことに心懸け、まで行って、オランダ語ならびにその文章や言葉のつながりのことを少しだが聞き習った人であったことと、歳も②私よりも十歳年長の先輩であったことから、彼を盟主に定め、先生として仰ぐことにした。②私はそのときまで二十五文字さえ習わず、急に思い立ったことであったために、だんだんに文字を覚え、オランダのいろいろな言葉を習うことにした。

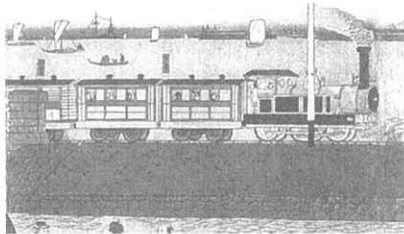
酒井シヅ『すらすら読める蘭学事始』（講談社）より。原著は『蘭学事始』

問4 文中の下線部②は誰か。氏名を答えなさい。

問5 文中の空らん  にあてはまる地名を答えなさい。

問6 『ターヘル・アナトミア』の翻訳は、この後、ある分野の発展に大きく貢献することになりました。その分野としてもっとも関係が深いものを次のア～エより1つ選び、記号で答えなさい。

ア




イ



ウ



エ

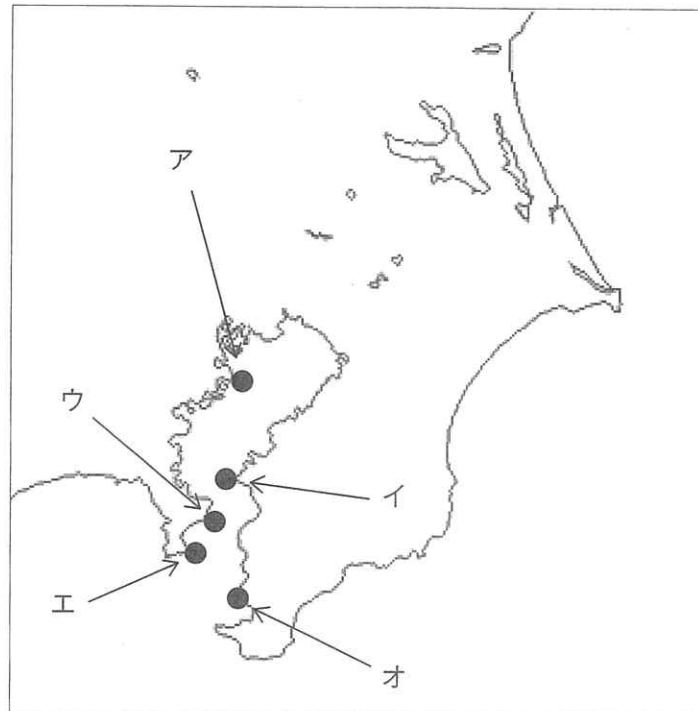


【史料C】

「泰平のねむりをさます正（上）喜撰 たった四はいで夜もねられず」

『新編史料日本史』（とうほう）より

問7 「正（上）喜撰」はお茶の銘柄を表し、「蒸気船」の意味にもなっています。この蒸気船が来航した場所を次の地図中のア～オより1つ選び、記号で答えなさい。





問8 【史料C】で詠まれた出来事が起きた時期を次の年表中ア～オより1つ選び、記号で答えなさい。

↓・・・(ア)
水野忠邦が上知令を出した。
↓・・・(イ)
択捉島以南が日本領となった。
↓・・・(ウ)
日本の関税自主権を否定した。
↓・・・(エ)
幕府が朝廷に政権を奉還した。
↓・・・(オ)

【史料D】

□月□日、帝都に一大事件が突発した。二十余名の陸海軍青年軍人が数隊に分れ、その主力は午後五時過ぎ首相官邸に闖入して犬養首相を狙撃し、他は警視庁、日本銀行、政友会本部を襲うてピストルを発射し爆弾を投じ、首相は午後十一時過ぎ遂に絶命せられた。

齋藤隆夫『回顧七十年』（中央公論新社）より

問9 文中の空らんに入る月日を本文にならって漢数字で答えなさい。

問10 【史料D】の事件は1930年代の出来事でした。次の1930年代の出来事Ⅰ～Ⅲを、時代の古い順に並べ替えたものとして正しいものを次のア～カより1つ選び、記号で答えなさい。

Ⅰ 日本に対する勧告案に反発して、国際連盟の脱退を通告した。

Ⅱ 世界恐慌の影響を受けて、日本でも深刻な不況が始まった。

Ⅲ 満州鉄道の爆破を機に、日本と中国の軍事衝突が起こった。

ア. Ⅰ→Ⅱ→Ⅲ

イ. Ⅰ→Ⅲ→Ⅱ

ウ. Ⅱ→Ⅰ→Ⅲ

エ. Ⅱ→Ⅲ→Ⅰ

オ. Ⅲ→Ⅰ→Ⅱ

カ. Ⅲ→Ⅱ→Ⅰ

【史料E】

このころ\*<sup>1</sup>情報局\*<sup>2</sup>は米・英語（カタカナ語）、ジャズなど米・英音楽（約一〇〇〇曲）を敵性ものとして追放した。パーマメントが電髪、レコードは音盤、サッカーが蹴球、ド・レ・ミがハ・ニ・ホ、雑誌の『サンデー毎日』を『週刊毎日』、③野球の審判用語ではストライクを「よし一本」、アウトが「それまで」、と数えあげれば小辞典ができる。デリケッセンというレストランが京都にあったが、「出里決戦」と変わっていたのには驚いた。

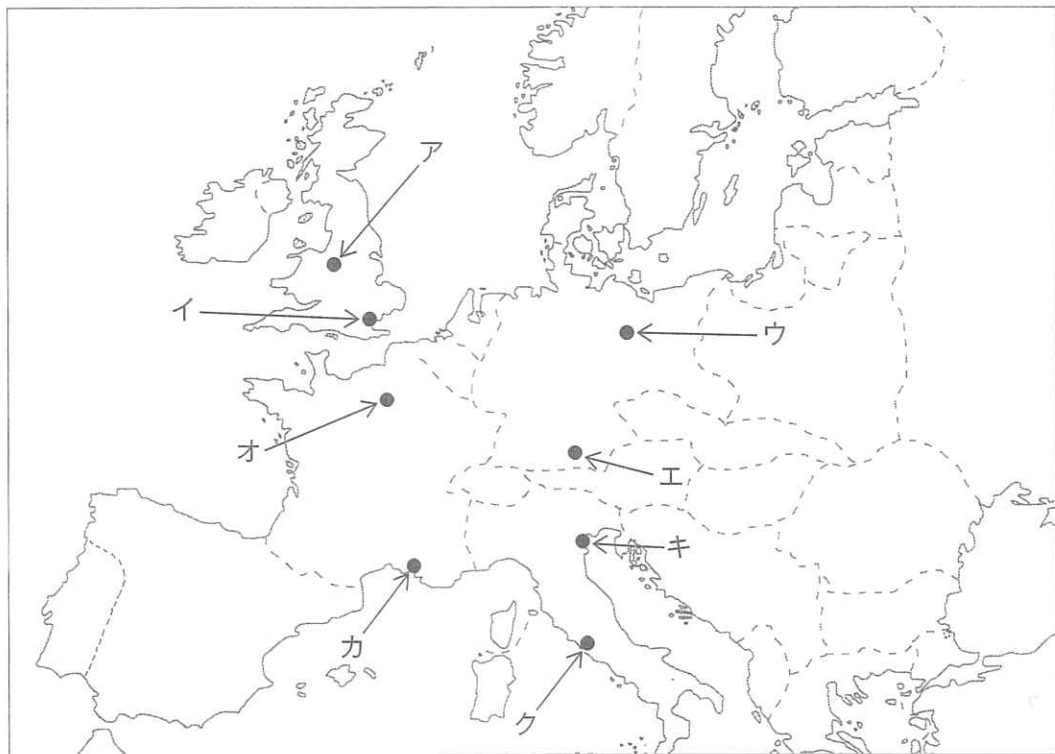
敵性音楽というのは「ダイナ」「アラビアの唄」「オールド・ブラック・ジョー」「アロハ・オエ」などで、喫茶店、飲食店からの追放、放送番組から締め出された。レコード盤も回収され、残った洋楽は 、、フランスの音楽が中心になった。

奥村芳太郎『学徒の青春』（角川書店）より

\* 1 このころ…学徒出陣が行なわれた1943年あたりを指す。

\* 2 情報局…言論・出版・文化の取り締まりを行った内閣直属の機関。

問11 文中の空らん 、 にあてはまる国の首都を、次の第二次世界大戦前の地図中のア～クより2つ選び、記号で答えなさい。



問12 下線部③に関連して、情報局による敵性ものの言葉が追放される以前に、プロ野球では、1940年に外国人選手の名前や英語のチーム名を日本語名に改めており、1943年には下線部③のような英語の野球用語の使用が禁じられました。

このように1940年には、すでに英語の使用が避けられており、日本国内でイギリスやアメリカに対する感情が悪化していることがわかります。その背景を説明しなさい。

問題は次のページに続きます。

以下の問いに答えなさい。

- 問1 昨年7月に実施された第25回参議院議員選挙について述べた、以下の文章中の（あ）～（う）に適する語句を答えなさい。ただし、（あ）はアルファベット3文字で答えること。

既成政党と比較して資金等が限られている新しい政党が、特にTwitterやYouTubeに代表される（あ）を利用し、有権者へ動画や情報の拡散をよびかけました。これは（い）を活用した選挙戦ができるようになったからです。今回の比例区では重度障害者が当選し、国会議事堂の（う）を促したことでも注目されました。

- 問2 次の表は第25回参議院議員選挙において、都道府県別の選挙区の投票率（%）を高い順に並べたものです。以下の文章（A）～（C）は、表中の（A）～（C）について述べたものです。文中の（あ）～（け）に当てはまる語句を答え、また、（A）～（C）に当てはまる都道府県を白地図中のア～カより選び記号で答え、さらに（A）～（C）の都道府県の県庁所在地にあてはまる雨温図を①～③より選び記号で答えなさい。（農産物のデータは、すべて2017年）

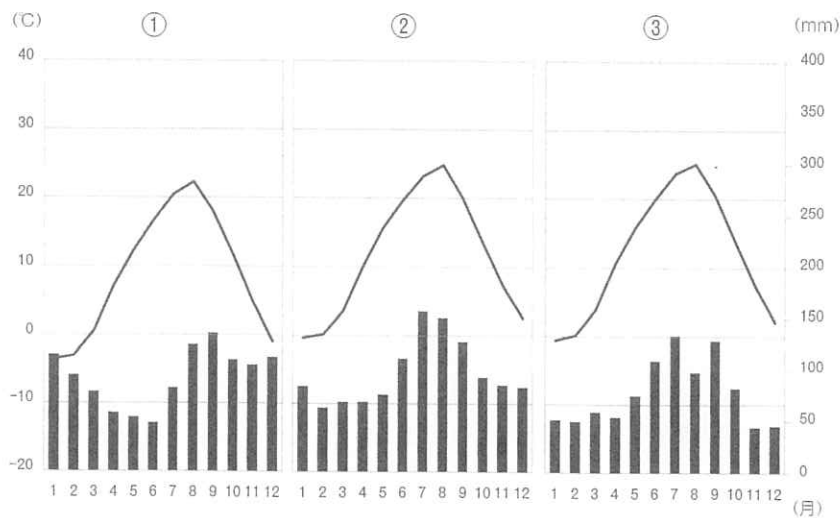
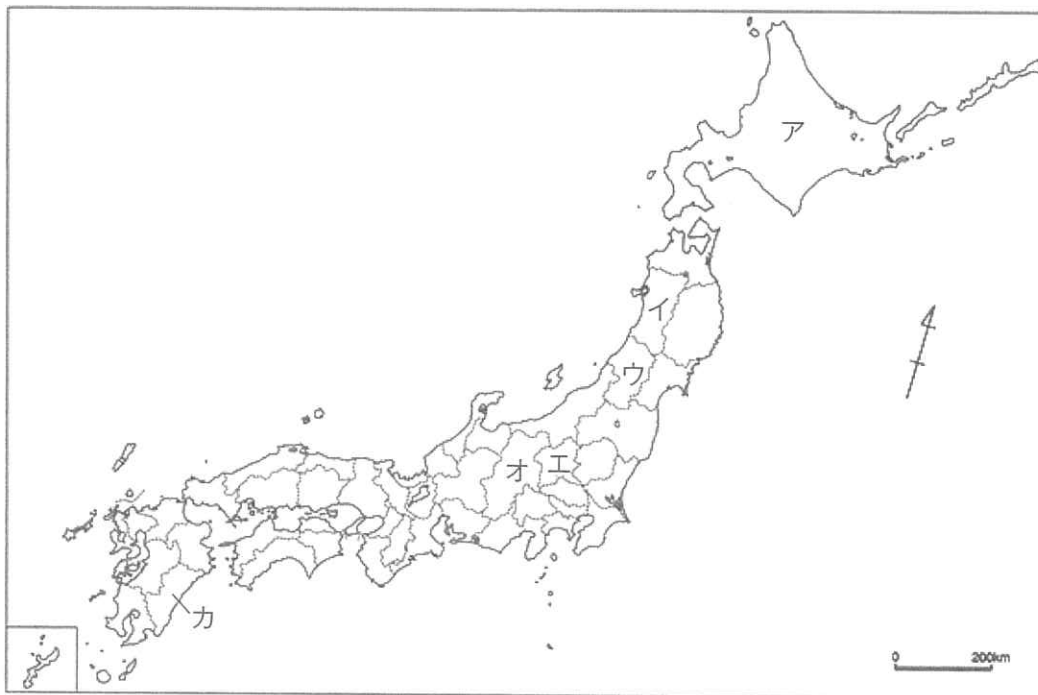
	投票率
(A)	60.74
岩手県	56.55
秋田県	56.29
新潟県	55.31
(B)	54.29
島根県	54.04
(C)	53.76
福島県	52.41
愛媛県	52.39
滋賀県	51.96
東京都	51.77
三重県	51.69
山梨県	51.56
宮城県	51.17
岐阜県	51.00
大分県	50.54

	投票率
静岡県	50.46
和歌山県	50.42
鳥取県	49.98
奈良県	49.53
沖縄県	49.00
神奈川県	48.73
大阪府	48.63
兵庫県	48.60
群馬県	48.18
愛知県	48.18
福井県	47.64
山口県	47.32
熊本県	47.23
石川県	47.00
富山県	46.88
埼玉県	46.48

	投票率
京都府	46.42
高知県	46.34
鹿児島県	45.75
長崎県	45.46
香川県	45.31
千葉県	45.28
佐賀県	45.25
岡山県	45.08
茨城県	45.02
広島県	44.67
栃木県	44.14
青森県	42.94
福岡県	42.85
宮崎県	41.79
徳島県	38.59
計	48.80

「総務省発表データ」より作成

- (A) 盆地での果樹栽培が盛んであり、西洋なしや（あ）の生産は第1位である。日本三大（い）の1つである（う）川が流れ、1つの都府県のみを流域とする河川としては最長である。
- (B) 盆地での果樹栽培が盛んであり、（え）の生産は青森県に次いで第2位である。秩父山地を源とする（お）川が流れ、北に隣接する県に入ると（か）川と呼称が変わる。
- (C) 南東部に広がる平野では畑作が盛んで、特に葉や搾りかすを家畜の餌にする（き）の国内生産は100%である。中央部を（く）川が流れ、中流から下流に広がる平野では泥炭地に客土を施し、水田地帯となっている。かつては（け）の激しい川であったが、近年改修されて短縮したものの、第3位の長さである。



【地理データファイル2019年度版】（帝国書院）より作成

4

近年、以下の図のようなサービスが提供されるようになりました。このようなサービスが提供されるようになった社会背景を、「人口動態調査」、「日本の年齢別人口構成の推移」を参考にし、100字以内で説明しなさい。ただし、解答に際しては以下の指定された【語句】を必ず使うこと。【語句】は何度使ってもよいが、使った【語句】を丸で囲みなさい。

あなたの町の新聞屋さん

新聞屋お届便!!

静岡中央新聞販売株式会社

新着情報 ▶ よくあるご質問

支店ご紹介

新聞社おすすめ購読本

購読のお申込み

休読のお申込み

0120- お問い合わせ ▶

取り扱い新聞について	各サービスのご紹介
採用情報	会社案内

各サービスご紹介 Service

すまいる見守りたい

「見守りたい」は朝夕刊の配達などで日常生活の異常を発見した場合に、ご自宅を訪問して安否確認をすると共に、あらかじめ登録して頂いた緊急連絡先にご連絡するサービスです。

【語句】

医療 団塊

<https://www.e-shinbun.jp> (一部改変)

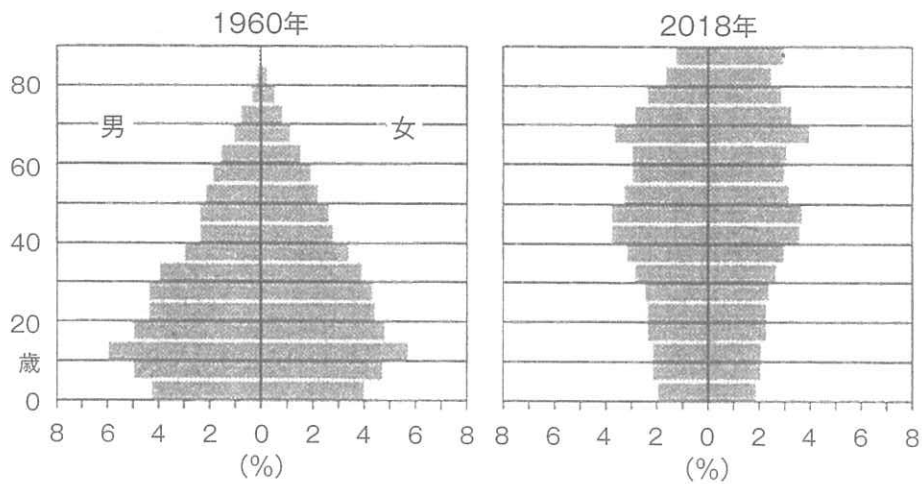
「人口動態調査」

西暦	平均初婚年齢		合計特殊出生率	世帯数 (万世帯)	
	女性	男性		核家族世帯数	単身世帯数
1960年	24.4	27.2	2.00	-	389
1965年	24.5	27.2	2.14	1,424	463
1970年	24.2	26.9	2.13	1,703	554
1975年	24.7	27.0	1.91	1,930	599
1980年	25.2	27.8	1.75	2,132	640
1985年	25.5	28.2	1.76	2,274	685
1990年	25.9	28.4	1.54	2,415	845
1995年	26.3	28.5	1.42	2,400	921
2000年	27.0	28.8	1.36	2,694	1,099
2005年	28.0	29.8	1.26	2,787	1,158
2010年	28.8	30.5	1.39	2,910	1,239
2015年	29.4	31.1	1.45	3,032	1,352

厚生労働省「人口動態調査」より作成

- (注) 平均初婚年齢：はじめて結婚して同居を始めた年齢の平均。  
 合計特殊出生率：15～49歳までの女性の年齢別出生率の合計。  
 核家族：次の①～③のいずれかからなる家族。  
     ①夫婦とその未婚の子女  
     ②夫婦のみ  
     ③父親または母親とその未婚の子女  
 単身：一人暮らしであること。

「日本の年齢別人口構成の推移」



【データブック オブ・ザ・ワールド2019年版】(二宮書店)より、一部改変

【問題は以上です。】

※欄には記入しないこと。

1	問1		問2		※	
	問3	(1)		(2)	※	
	問4					※
	問5	①		②		※
		③		④		※

2	問1		問2		問3		※		
	問4			問5			※		
	問6		問7		問8		問9	月 日	※
	問10		問11					※	
	問12							※	

3	問1	あ		い		う		※
	問2 (A)	あ		い		う		※
		地図		雨温図				※
	問2 (B)	え		お		か		※
		地図		雨温図				※
	問2 (C)	き		く		け		※
		地図		雨温図				※

4											※

受験番号											氏名

得点合計	※	